

제2교시

17머스크

[출처] 2022 대원외고 1-1 기말 수상 21 [1.80점]

.....어려움6

1. 좌표평면 위의 서로 다른 6개의 점 A, B, C, D, E, F에 대하여 두 이등변삼각형 ABC, DEF는 다음 조건을 만족시킨다.

- (가) $\angle BAC = \angle EDF = 120^\circ$
- (나) $\overline{AB} = 2, \overline{DE} = 4$

두 이등변삼각형 ABC, DEF의 외심의 좌표가 (0, 0)일 때, 삼각형 DBC의 넓이의 최댓값을 구하시오.

.....어려움6

2. 이차방정식 $x^2 + mx + n = 0$ 의 근이 모두 유리수가 되도록 하는 6 이하의 두 자연수 m, n 의 순서쌍 (m, n) 의 개수를 구하시오.

[출처] 2023 휘문고 1-1 중간 수상 11 [4.60점]

.....어려움5

3. x 에 대한 이차방정식 $(k-1)x^2 + (2k+2)x + k+5 = 0$ 이 서로 다른 두 실근을 갖도록 하는 자연수 k 의 값을 모두 구하시오.

[출처] 2022 영동일고 1-1 중간 수상 5 [3.00점]

.....어려움5

4. x 에 대한 이차방정식 $x^2 - 4(k-a)x + 4k^2 - a^2 + 8b - 1 = 0$ 이 실수 k 의 값과 관계없이 중근을 가질 때, 실수 a, b 에 대하여 $a+b$ 의 값은?

- ① $-\frac{1}{4}$
- ② $-\frac{1}{8}$
- ③ 0
- ④ $\frac{1}{8}$
- ⑤ $\frac{1}{4}$

[출처] 2022 반포고 1-1 중간 수상 9 [4.40점] ••••어려움6

5. 두 자연수 a, b 에 대하여 x 에 대한 이차방정식 $x^2 + (ab^2 + a)x - 2ab - 72 = 0$ 의 두 근을 α, β 라 하자. $\alpha + \beta = \alpha\beta$ 일 때, 모든 b 의 값의 합은?
- ① 13 ② 14 ③ 15
 ④ 16 ⑤ 17

[출처] 2023 진선여고 1-1 중간 수상 8 [4.60점] ••••어려움6

6. $abc \neq 0$ 인 실수 a, b, c 에 대하여 등식 $a^3 + c^3 + 3abc = b^3$ 이 성립할 때, $ax^2 + bx + c = 0$ ㉠이 다음 조건을 만족시킬 때, 상수 p 의 값은?

이차방정식 ㉠은 서로 다른 두 실근을 갖고, 두 실근의 합과 곱은 각각 $-5, p$ 이다.

- ① 1 ② 2 ③ 3
 ④ 4 ⑤ 5

[출처] 2023 은광여고 1-1 중간 수상 17 [5.00점] ••••어려움6

7. 다음 조건을 만족시키는 소수 p 의 개수는?

(가) a 는 13의 배수인 두 자리의 자연수이다.
 (나) 이차방정식 $x^2 - ax + 3p = 0$ 의 두 근은 서로 다른 자연수이다.

- ① 1 ② 2 ③ 3
 ④ 4 ⑤ 5

[출처] 2022 명덕고 1-1 중간 수상 15 [4.40점] ••••어려움6

8. 직선 $y = x + k$ 가 이차함수 $y = x^2 - 2x + 1$ 의 그래프와 만나지 않고, 이차함수 $y = -x^2 + 4x - 5$ 의 그래프와도 만나지 않을 때, 정수 k 의 값은?

- ① -1 ② -2 ③ -3
 ④ -4 ⑤ -5

[출처] 2014년 교육청 고2문과 3월 19 [4.00점] •••보통4

9. 이차항의 계수가 1인 이차함수 $f(x)$ 는 다음 조건을 만족시킨다.

- (가) 이차방정식 $f(x)=0$ 의 두 근의 곱은 7이다.
 (나) 이차방정식 $x^2-3x+1=0$ 의 두 근 α, β 에 대하여 $f(\alpha)+f(\beta)=3$ 이다.

$f(7)$ 의 값은?

- ① 10 ② 11 ③ 12
 ④ 13 ⑤ 14

[출처] 2022 청담고 1-1 중간 수상 13 [5.30점] •••어려움5

10. 이차함수

$$y = x^2 + ax - a - 2$$

의 그래프는 실수 a 의 값에 관계없이 항상 점 P를 지난다. 점 P를 꼭짓점으로 하고 최고차항의 계수가 2인 이차함수의 그래프가 x 축과 만나는 점의 x 좌표의 곱은?

- ① -2 ② $-\frac{1}{2}$ ③ -1
 ④ $\frac{1}{2}$ ⑤ 2

[출처] 2022 보인고 1-1 기말 수상 10 [2.60점] •••어려움5

11. 이차항의 계수와 그래프의 꼭짓점의 좌표가 모두 자연수인 이차함수 $y=f(x)$ 가 다음 조건을 만족시킨다.

- (가) $f(2+x)=f(2-x)$
 (나) 함수 $y=f(x)$ 의 그래프와 직선 $y=2x+2$ 는 한 점에서 만난다.

함수 $y=f(x)$ 의 그래프와 직선 $y=kx+11-k^2$ 이 서로 다른 두 점에서 만나도록 하는 정수 k 의 개수는?

[출처] 2021년 교육청 고1공통 6월 26 •••어려움6

12. 이차함수 $f(x)=ax^2+bx+5$ 가 다음 조건을 만족시킬 때, $f(-2)$ 의 값을 구하시오.

- (가) a, b 는 음의 정수이다.
 (나) $1 \leq x \leq 2$ 일 때, 이차함수 $f(x)$ 의 최댓값은 3이다.

[출처]

2023 세화고 1-1 중간 수상

•••어려움6

13. 상수 k 에 대하여 x 의 값의 범위가 $-1 \leq x \leq 2$ 일 때,
이차함수 $y = x^2 - 2x + k$ 의 최솟값은 -3 이다. 이 범위에서
이 이차함수의 최댓값은?

- ① 1 ② 2 ③ 3
④ 4 ⑤ 5

[출처]

2022 영동일고 1-1 중간 수상 16 [4.00점]

•••어려움6

14. 음이 아닌 두 실수 x, y 가 $2x + y = 4$ 를 만족시킬 때,
 $3x^2 + 4y + y^2$ 의 최댓값을 M , 최솟값을 m 이라고 하자.
 $M - m$ 의 값은?

- ① $-\frac{64}{7}$ ② $-\frac{8}{7}$ ③ $\frac{8}{7}$
④ $\frac{64}{7}$ ⑤ $\frac{144}{7}$

[출처]

2023 은광여고 1-1 중간 수상 14 [4.80점]

•••어려움6

15. $-6 \leq x \leq 3$ 에서 정의된 이차함수 $f(x)$ 가

$$f(-5) = f(1), |f(-5)| + f(2) = 0$$

을 만족시킨다. 함수 $f(x)$ 의 최솟값이 -25 일 때, $f(-3)$ 의
값은?

- ① 15 ② 17 ③ 19
④ 21 ⑤ 23

[출처]

2023 영동고 1-1 중간 수상 13 [1.10점]

•••어려움6

16. 최고차항의 계수가 1인 두 이차식 $f(x)$ 와 $g(x)$ 에 대해
다항식 $f(x)g(x)$ 는 $(x-2)(x+2)(x+3)$ 으로 나누어떨어진다.
이차함수 $f(x)$ 가 $x = -1$ 에서 최솟값 -9 를 가질 때,
 $f(-5) + g(-1)$ 의 값은?

- ① 9 ② 10 ③ 11
④ 12 ⑤ 13

[출처]

2023 중등고 1-1 중간 수상 18 [5.00점]

•••어려움5

17. 실수 t 에 대하여 $-2 \leq x \leq 2$ 에서 함수

$$f(x) = x^2 - 4|x-t| + 4$$

의 최댓값을 $g(t)$ 라 하자. 방정식 $g(x) = 2x + k$ 가 서로 다른 세 실근을 갖도록 하는 모든 실수 k 의 값의 합을 구하시오.

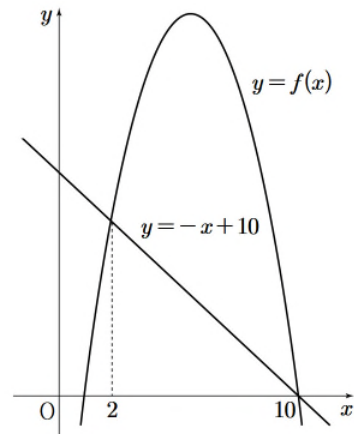
[출처]

2020년 교육청 고1공통 6월 20

•••어려움6

18. 그림은 이차함수 $f(x) = -x^2 + 11x - 10$ 의 그래프와 직선 $y = -x + 10$ 을 나타낸 것이다. 직선 $y = -x + 10$ 위의 한 점 $A(t, -t + 10)$ 에 대하여 점 A 를 지나고 y 축에 평행한 직선이 이차함수 $y = f(x)$ 의 그래프와 만나는 점을 B , 점 B 를 지나고 x 축과 평행한 직선이 이차함수 $y = f(x)$ 의 그래프와 만나는 점 중 B 가 아닌 점을 C , 점 A 를 지나고 x 축에 평행한 직선과 점 C 를 지나고 y 축에 평행한 직선이 만나는 점을 D 라 하자. 네 점 A, B, C, D 를 꼭짓점으로 하는 직사각형의 둘레의 길이의 최댓값은?

(단, $2 < t < 10$, $t \neq \frac{11}{2}$ 이다.)



① 30

② 33

③ 36

④ 39

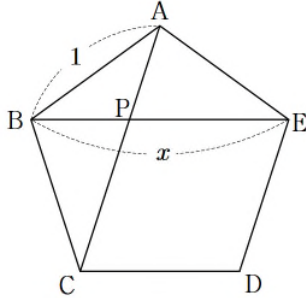
⑤ 42

[출처]

2021년 교육청 고1공통 6월 20

•••어려움6

19. 그림과 같이 한 변의 길이가 1인 정오각형 ABCDE가 있다. 두 대각선 AC와 BE가 만나는 점을 P라 하면 $\overline{BE} : \overline{PE} = \overline{PE} : \overline{BP}$ 가 성립한다.



대각선 BE의 길이를 x 라 할 때,

$$1 - x + x^2 - x^3 + x^4 - x^5 + x^6 - x^7 + x^8 = p + q\sqrt{5}$$

이다. $p+q$ 의 값은? (단, p, q 는 유리수이다.)

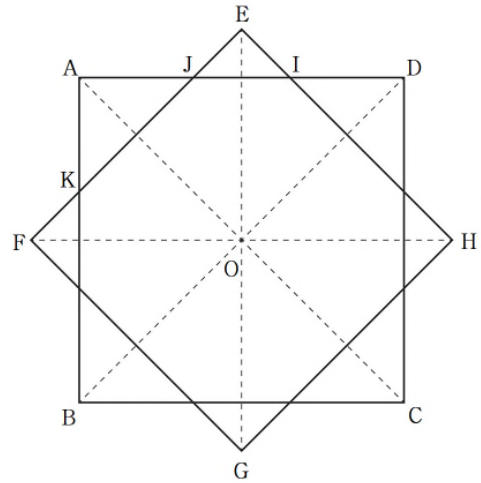
- ① 22 ② 23 ③ 24
- ④ 25 ⑤ 26

[출처]

2020년 교육청 고1공통 6월 29

•••어려움6

20. $\frac{\sqrt{2}}{2} < k < \sqrt{2}$ 인 실수 k 에 대하여 그림과 같이 한 변의 길이가 각각 2, $2k$ 인 두 정사각형 ABCD, EFGH가 있다. 두 정사각형의 대각선이 모두 한 점 O에서 만나고, 대각선 FH가 변 AB를 이등분한다. 변 AD와 EH의 교점을 I, 변 AD와 EF의 교점을 J, 변 AB와 EF의 교점을 K라 하자. 삼각형 AKJ의 넓이가 삼각형 EJI의 넓이의 $\frac{3}{2}$ 배가 되도록 하는 k 의 값이 $p\sqrt{2} + q\sqrt{6}$ 일 때, $100(p+q)$ 의 값을 구하시오. (단, p, q 는 유리수이다.)



[출처] 2022년 교육청 고1공통 6월 20 [4.00점] •••어려움6

21. 모든 실수 x 에 대하여 다항식 $P(x)$ 가
- $$\{P(x)+2\}^2 = (x-a)(x-2a)+4$$
- 를 만족시킬 때, 모든 $P(1)$ 의 값의 합은? (단, a 는 실수이다.)
- ① -9 ② -8 ③ -7
 ④ -6 ⑤ -5

[출처] 2022년 교육청 고1공통 9월 29 •••어려움6

22. 두 실수 a, b 에 대하여 이차방정식 $x^2+ax+b=0$ 의 서로 다른 두 근은 α, β 이고, 이차방정식 $x^2+3ax+3b=0$ 의 서로 다른 두 근은 $\alpha+2, \beta+2$ 이다. 다음 조건을 만족시키는 자연수 n 의 최솟값을 구하시오.

(가) $\alpha^n + \beta^n > 0$
 (나) $\alpha^n + \beta^n = \alpha^{n+1} + \beta^{n+1}$

[출처] 2021년 교육청 고1공통 6월 28 •••어려움6

23. x 에 대한 이차방정식 $x^2+2ax-b=0$ 의 두 근을 α, β 라 할 때, $|\alpha-\beta| < 12$ 를 만족시키는 두 자연수 a, b 의 모든 순서쌍 (a, b) 의 개수를 구하시오.

[출처] 2023년 교육청 고1공통 9월 21 [4.00점] •••매우어려움7

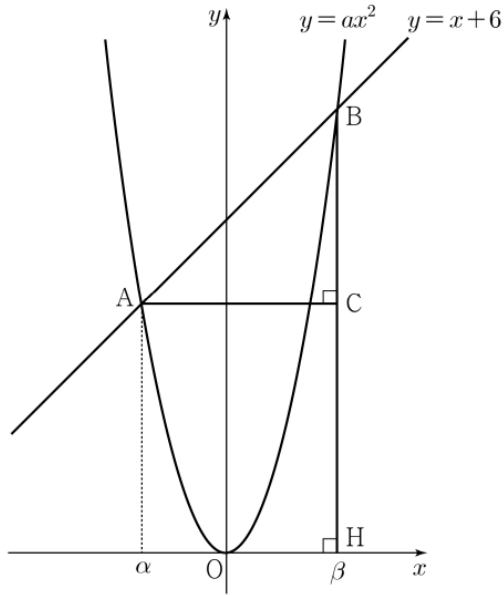
24. 이차함수 $f(x)$ 와 이차항의 계수가 1인 이차함수 $g(x)$ 에 대하여 x 에 대한 이차방정식
- $$\{x-f(k)\}\{x-g(k)\}=0$$
- 이 서로 다른 두 실근 0, 4를 갖도록 하는 모든 실수 k 의 개수가 3이다. $f(2)=4$ 일 때, $g(8)-f(8)$ 의 값은?
- ① 62 ② 64 ③ 66
 ④ 68 ⑤ 70

[출처]

2023년 교육청 고1공통 6월 17 [4.00점]

•••어려움6

25. 그림과 같이 이차함수 $y = ax^2$ ($a > 0$)의 그래프와 직선 $y = x + 6$ 이 만나는 두 점 A, B의 x 좌표를 각각 α , β 라 하자. 점 B에서 x 축에 내린 수선의 발을 H, 점 A에서 선분 BH에 내린 수선의 발을 C라 하자. $\overline{BC} = \frac{7}{2}$ 일 때, $\alpha^2 + \beta^2$ 의 값은? (단, $\alpha < \beta$)



- ① $\frac{23}{4}$
- ② $\frac{25}{4}$
- ③ $\frac{27}{4}$
- ④ $\frac{29}{4}$
- ⑤ $\frac{31}{4}$

[출처]

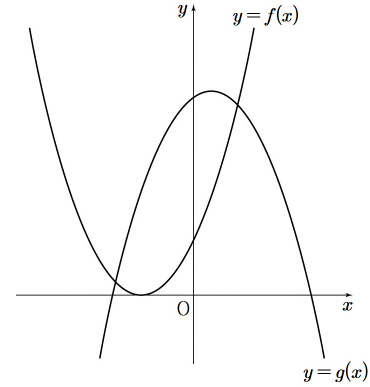
2020년 교육청 고1공통 6월 16

•••어려움6

26. 두 이차함수

$$f(x) = x^2 + ax + b, \quad g(x) = -x^2 + cx + d$$

에 대하여 그림과 같이 함수 $y = f(x)$ 의 그래프는 x 축에 접하고, 두 함수 $y = f(x)$ 와 $y = g(x)$ 의 그래프는 제1사분면과 제2사분면에서 만난다. <보기>에서 옳은 것만을 있는 대로 고른 것은?



<보 기>

- ㄱ. $a^2 - 4b = 0$
- ㄴ. $a^2 - 4d < 0$
- ㄷ. $(a - c)^2 - 8(b - d) > 0$

- ① ㄱ
- ② ㄱ, ㄴ
- ③ ㄱ, ㄷ
- ④ ㄴ, ㄷ
- ⑤ ㄱ, ㄴ, ㄷ

[출처]

2021년 교육청 고1공통 9월 21

•••어려움6

27. 실수 k 에 대하여 이차함수 $y=(x-k)^2-2$ 의 그래프와 직선 $y=2$ 는 서로 다른 두 점 A, B에서 만난다. 삼각형 AOB가 이등변삼각형이 되도록 하는 서로 다른 k 의 개수를 n , k 의 최댓값을 M 이라 하자. $n+M$ 의 값은?
(단, O는 원점이고, 점 A의 x 좌표는 점 B의 x 좌표보다 작다.)

- ① $7+\sqrt{3}$ ② $7+2\sqrt{3}$ ③ $7+3\sqrt{3}$
 ④ $9+2\sqrt{3}$ ⑤ $9+3\sqrt{3}$

[출처]

2022년 교육청 고1공통 11월 30 [4.00점]

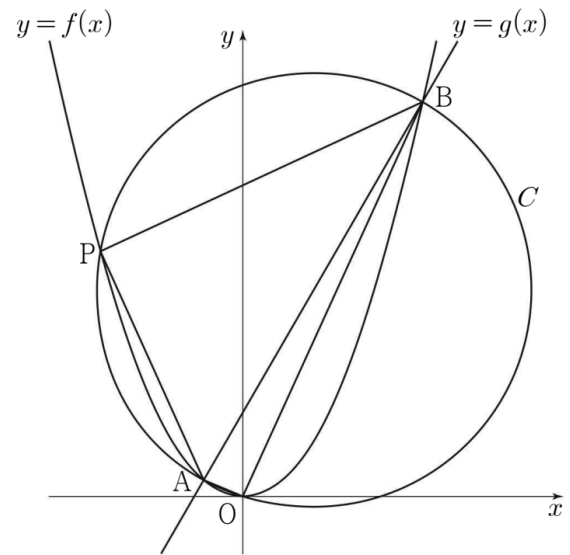
•••어려움6

28. 두 양수 a, m 에 대하여 두 함수 $f(x), g(x)$ 를

$$f(x) = ax^2,$$

$$g(x) = mx + 4a$$

라 하자. 그림과 같이 곡선 $y=f(x)$ 와 직선 $y=g(x)$ 가 만나는 두 점을 A, B라 할 때, 선분 AB를 지름으로 하고 원점 O를 지나는 원 C가 있다. 원 C와 곡선 $y=f(x)$ 는 서로 다른 네 점에서 만나고, 원 C와 곡선 $y=f(x)$ 가 만나는 네 점 중 O, A, B가 아닌 점을 $P(k, f(k))$ 라 하자. 삼각형 ABP의 넓이가 삼각형 AOB의 넓이의 5배일 때, $f(k) \times g(-k)$ 의 값을 구하시오.



[출처]

2020년 교육청 고1공통 6월 19

...어려움6

29. 이차함수 $f(x)=x^2-x+k$ 의 그래프와 직선 $y=x+1$ 이 두 점에서 만날 때, 그 교점의 x 좌표를 각각 α, β ($\alpha < \beta$)라 하자. 세 점 $A(\alpha, f(\alpha)), B(\beta, f(\alpha)), C(\beta, f(\beta))$ 를 꼭짓점으로 하는 삼각형 ABC의 넓이가 8일 때, $f(6)$ 의 값은? (단, k 는 상수이다.)

- ① 28 ② 29 ③ 30
 ④ 31 ⑤ 32

[출처]

2020년 교육청 고1공통 6월 17

...어려움6

30. 자연수 n 에 대하여 두 함수 $f(x)=x^2+n^2$ 과 $g(x)=2nx+1$ 의 그래프가 만나는 두 점을 각각 A, B라 하고, 점 A와 B에서 x 축에 내린 수선의 발을 각각 C, D라 하자. 네 점 A, B, C, D를 꼭짓점으로 하는 사각형의 넓이가 66이 되도록 하는 n 의 값은?

- ① 1 ② 2 ③ 3
 ④ 4 ⑤ 5

고3에 필요한 고1 문제 모음(빠른 정답)

(가제)고1 2500제

2023.09.09

1. [정답] $5\sqrt{3}$
2. [정답] 7
3. [정답] 2
4. [정답] ④
5. [정답] ④

6. [정답] ④
7. [정답] ②
8. [정답] ②
9. [정답] ⑤
10. [정답] ④

11. [정답] ③
12. [정답] 3
13. [정답] ①
14. [정답] ⑤
15. [정답] ⑤

16. [정답] ①
17. [정답] 7
18. [정답] ③
19. [정답] ①
20. [정답] 50

21. [정답] ②
22. [정답] 6
23. [정답] 120
24. [정답] ④
25. [정답] ②

26. [정답] ⑤
27. [정답] ②
28. [정답] 48
29. [정답] ①
30. [정답] ④

고3에 필요한 고1 문제 모음(해설)

(가제)고1 2500제

2023.09.09

1) [정답] $5\sqrt{3}$

2) [정답] 7

[해설]

방정식 $x^2+mx+n=0$ 의 두 근이 모두 유리수이므로 방정식의 근은 근의 공식에 의하여

$$x = \frac{-m \pm \sqrt{m^2 - 4n}}{2}$$

따라서 $m^2 - 4n$ 이 제곱수가 되어야 두 근이 유리수가 된다. 자연수 m, n 이 6 이하의 자연수이므로

$m=6$ 일 때 $n=5$

$m=5$ 일 때 $n=4$

$m=4$ 일 때 $n=3$ 또는 $n=4$

$m=3$ 일 때 $n=2$

$m=2$ 일 때 $n=1$

$m=1$ 일 때 주어진 조건을 만족시키는 n 은 존재하지 않는다.

따라서 이차방정식의 근이 모두 유리수가 되도록 하는 순서쌍 (m, n) 의 개수는 7이다.

3) [정답] 2

4) [정답] ④

5) [정답] ④

6) [정답] ④

7) [정답] ②

8) [정답] ②

9) [정답] ⑤

[해설]

조건 (가)에서 이차항의 계수가 1인 이차방정식 $f(x)=0$ 의 두 근의 곱이 7이므로

$f(x)=x^2+ax+7$ (a 는 상수)

라 놓을 수 있다.

조건 (나)에서 $x^2-3x+1=0$ 의 두 근이 α, β 이므로 근과 계수의 관계에 의하여 $\alpha+\beta=3, \alpha\beta=1$

$\therefore \alpha^2 + \beta^2 = (\alpha + \beta)^2 - 2\alpha\beta = 7$

따라서 $f(\alpha)+f(\beta)=3$ 에서

$f(\alpha)+f(\beta)=(\alpha^2 + \beta^2)+a(\alpha + \beta)+14=7+3a+14=3$

$\therefore a = -6$

$f(x)=x^2-6x+7$ 이므로 $f(7)=14$

10) [정답] ④

11) [정답] ③

12) [정답] 3

[해설]

이차함수 $f(x)=ax^2+bx+5=a\left(x+\frac{b}{2a}\right)^2-\frac{b^2}{4a}+5$ 에서

꼭짓점의 x 좌표는 $x=-\frac{b}{2a}<0$ 이고, $a<0$ 이므로

$1 \leq x \leq 2$ 에서 이차함수 $y=f(x)$ 는 감소한다.

이차함수 $y=f(x)$ 의 최댓값은 $f(1)=a+b+5=3$ 이다.

$a+b=-2$ 이고 a, b 는 음의 정수이므로 $a=-1,$

$b=-1$ 이다.

따라서 $f(-2)=4a-2b+5=-4+2+5=3$ 이다.

13) [정답] ①

14) [정답] ⑤

15) [정답] ⑤

16) [정답] ①

17) [정답] 7

18) [정답] ③

[해설]

이차방정식 $-x^2+11x-10=-x+10$ 의 근은 $x=2,$

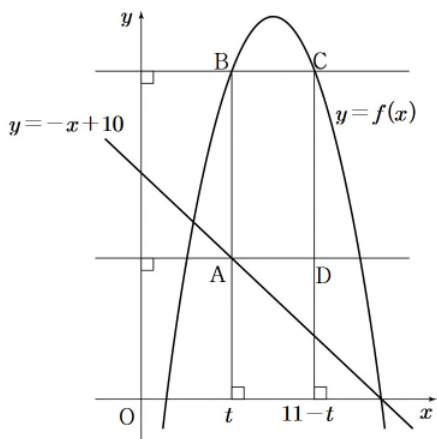
10이므로 두 점 $(2, 8)$ 과 $(10, 0)$ 에서 두 그래프가 만난다.

$A(t, -t+10), B(t, -t^2+11t-10)$ 라 하면 선분 AB의

길이는

$-t^2+11t-10-(-t+10)=-t^2+12t-20$

(i) $2 < t < \frac{11}{2}$ 인 경우



선분 BC의 길이는 $2 \times \left(\frac{11}{2} - t\right) = 11 - 2t$ 이다.

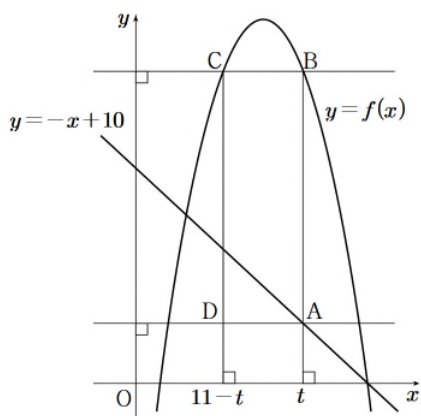
직사각형 BADC의 둘레의 길이는

$$2(-t^2 + 10t - 9) = -2(t-5)^2 + 32$$

$2 < t < \frac{11}{2}$ 에서 직사각형 BADC의 둘레의 길이의 최댓값은

32이다.

(ii) $\frac{11}{2} < t < 10$ 인 경우



선분 BC의 길이는 $2 \times \left(t - \frac{11}{2}\right) = 2t - 11$ 이다.

직사각형 ABCD의 둘레의 길이는

$$2(-t^2 + 14t - 31) = -2(t-7)^2 + 36$$

$\frac{11}{2} < t < 10$ 에서 직사각형 ABCD의 둘레의 길이의 최댓값은

36이다.

따라서 직사각형 ABCD의 둘레의 길이의 최댓값은 36이다.

19) [정답] ①

[해설]

정오각형의 한 내각의 크기는 $\frac{180^\circ \times 3}{5} = 108^\circ$ 이다.

$\triangle ABE$ 는 이등변삼각형이고 $\angle BAE = 108^\circ$ 이므로 $\angle ABE = 36^\circ$ 이다.

$\triangle BAC$ 는 이등변삼각형이고 $\angle ABC = 108^\circ$ 이므로 $\angle BAC = 36^\circ$ 이다.

$\angle BAP = \angle ABP = 36^\circ$ 이므로 $\angle APB = 108^\circ$ 이고 $\angle APE = 72^\circ$ 이고 $\angle EAP = 72^\circ$ 이다.

$\triangle APE$ 는 이등변삼각형이므로 $\overline{PE} = 1$ 이다.

$$\overline{BE} : \overline{PE} = \overline{PE} : \overline{BP}$$

$$x : 1 = 1 : (x-1)$$

$$x(x-1) = 1, x^2 - x - 1 = 0$$

$x > 0$ 이므로 $x = \frac{1 + \sqrt{5}}{2}$ 이다.

$$x^2 = x + 1,$$

$$x^3 = (x+1)x = 2x+1,$$

$$x^4 = (2x+1)x = 3x+2,$$

$$x^5 = (3x+2)x = 5x+3,$$

$$x^6 = (5x+3)x = 8x+5$$

$$1 - x + x^2 - x^3 + x^4 - x^5 + x^6 - x^7 + x^8$$

$$= 1 + (-x + x^2) + x^2(-x + x^2) + x^6(-x + x^2)$$

$$+ x^4(-x + x^2)$$

$$= 1 + 1 + x^2 + x^4 + x^6$$

$$= 2 + (x+1) + (3x+2) + (8x+5)$$

$$= 12x + 10$$

$$= 12 \times \frac{1 + \sqrt{5}}{2} + 10$$

$$= 16 + 6\sqrt{5}$$

따라서 $p = 16, q = 6$ 이므로 $p + q = 22$

20) [정답] 50

[해설]

꼭짓점 E에서 변 AD에 내린 수선의 발을 L이라 하고 $\overline{JL} = x (x > 0)$ 라 하자.

$\triangle EJI$ 는 직각이등변삼각형이므로 $\overline{EL} = x$ 이고 $\triangle EJI$ 의 넓이는 x^2 이다.

$\overline{AJ} = 1 - x$ 이므로 $\triangle AKJ$ 의 넓이는 $\frac{(1-x)^2}{2}$ 이다.

$\triangle AKJ$ 의 넓이가 $\triangle EJI$ 의 넓이의 $\frac{3}{2}$ 배이므로

$$\frac{(1-x)^2}{2} = \frac{3}{2}x^2, \quad 2x^2 + 2x - 1 = 0$$

$$x = \frac{-1 + \sqrt{3}}{2} (x > 0)$$

$\overline{OE} = \sqrt{2}k$ 이고,

$$\overline{OE} = \overline{OL} + \overline{EL}$$

$$= 1 + \frac{-1 + \sqrt{3}}{2}$$

$$= \frac{1 + \sqrt{3}}{2}$$

이므로 $\sqrt{2}k = \frac{1+\sqrt{3}}{2}$

즉, $k = \frac{\sqrt{2}+\sqrt{6}}{4}$ 이므로 $p=q = \frac{1}{4}$

$\therefore 100(p+q) = 50$

21) [정답] ②

[해설]

$\{P(x)+2\}^2 = (x-a)(x-2a)+4 = x^2 - 3ax + 2a^2 + 4$ 이다.

x 에 대한 이차방정식 $x^2 - 3ax + 2a^2 + 4 = 0$ 이 중근을 가지므로 판별식 $D = (3a)^2 - 4(2a^2 + 4) = 0$ 이다.

$(3a)^2 - 4(2a^2 + 4) = 9a^2 - 8a^2 - 16 = a^2 - 16 = 0$ 이므로 $a = 4$ 또는 $a = -4$ 이다.

(i) $a = 4$ 인 경우

$\{P(x)+2\}^2 = x^2 - 12x + 36 = (x-6)^2$

이므로 $P(x)+2 = x-6$ 또는 $P(x)+2 = -x+6$ 에서

$P(x) = x-8$ 또는 $P(x) = -x+4$ 이다.

(ii) $a = -4$ 인 경우

$\{P(x)+2\}^2 = x^2 + 12x + 36 = (x+6)^2$

이므로 $P(x)+2 = x+6$ 또는 $P(x)+2 = -x-6$ 에서

$P(x) = x+4$ 또는 $P(x) = -x-8$ 이다.

(i)과 (ii)에 의해 조건을 만족시키는 일차다항식 $P(x)$ 는 $x-8, -x+4, x+4, -x-8$ 이고 모든 $P(1)$ 의 값은 $-7, 3, 5, -9$ 이다.

따라서 모든 $P(1)$ 의 값의 합은 $(-7)+3+5+(-9) = -8$ 이다.

[다른 풀이]

$\{P(x)+2\}^2 = (x-a)(x-2a)+4$ 에서 다항식 $P(x)$ 는 일차식이다.

$P(x) = px + q$ ($p \neq 0$)라 하자.

$(px+q+2)^2 = (x-a)(x-2a)+4$ 에서

$p^2x^2 + (2pq+4p)x + q^2 + 4q + 4 = x^2 - 3ax + 2a^2 + 4$ 이므로

$p^2 = 1, 2pq+4p = -3a,$

$q^2 + 4q + 4 = 2a^2 + 4$ 이다.

(i) $p = 1$ 인 경우

$2q+4 = -3a, q^2 + 4q = 2a^2$ 에서 $(q-4)(q+8) = 0$ 이므로 $q = 4$

또는 $q = -8$ 이다.

따라서 $P(x) = x+4$ 또는 $P(x) = x-8$ 이다.

(ii) $p = -1$ 인 경우

$-2q-4 = -3a, q^2 + 4q = 2a^2$ 에서 $(q-4)(q+8) = 0$

이므로 $q = 4$ 또는 $q = -8$ 이다.

따라서 $P(x) = -x+4$ 또는 $P(x) = -x-8$ 이다.

그러므로 $P(x)$ 는 $x+4, x-8, -x+4, -x-8$ 이고 모든 $P(1)$ 의 값은 $5, -7, 3, -9$ 이다.

따라서 모든 $P(1)$ 의 값의 합은 $5+(-7)+3+(-9) = -8$ 이다.

22) [정답] 6

[해설]

이차방정식 $x^2 + ax + b = 0$ 의 서로 다른 두 근이 α, β 이므로 근과 계수의 관계에 의하여

$\alpha + \beta = -a \dots \textcircled{㉠}, \alpha\beta = b \dots \textcircled{㉡}$

이차방정식 $x^2 + 3ax + 3b = 0$ 의 서로 다른 두 근이 $\alpha+2, \beta+2$ 이므로 근과 계수의 관계에 의하여

$(\alpha+2) + (\beta+2) = -3a \dots \textcircled{㉢}$

$(\alpha+2)(\beta+2) = 3b \dots \textcircled{㉣}$

$\textcircled{㉠}, \textcircled{㉢}$ 에서

$-a+4 = -3a, a = -2$

$\textcircled{㉠}, \textcircled{㉣}$ 을 $\textcircled{㉢}$ 에 대입하면

$b+2 \times 2 + 4 = 3b, b = 4$

$\alpha + \beta = 2, \alpha\beta = 4$

$\alpha^2 - 2\alpha + 4 = 0$ 에서 $\alpha^3 = -8$

$\beta^2 - 2\beta + 4 = 0$ 에서 $\beta^3 = -8$ 이므로

$\alpha + \beta = 2$

$\alpha^2 + \beta^2 = (\alpha + \beta)^2 - 2\alpha\beta = 2^2 - 2 \times 4 = -4$

$\alpha^3 + \beta^3 = (-8) + (-8) = -16$

$\alpha^4 + \beta^4 = \alpha^3 \times \alpha + \beta^3 \times \beta = -8(\alpha + \beta) = -16$

$\alpha^5 + \beta^5 = \alpha^3 \times \alpha^2 + \beta^3 \times \beta^2 = -8(\alpha^2 + \beta^2) = 32$

$\alpha^6 + \beta^6 = (\alpha^3)^2 + (\beta^3)^2 = (-8)^2 + (-8)^2 = 128$

$\alpha^7 + \beta^7 = (\alpha^3)^2 \times \alpha + (\beta^3)^2 \times \beta = 64(\alpha + \beta)$

$= 128$

따라서 $\alpha^6 + \beta^6 = \alpha^7 + \beta^7 = 128$ 이므로

조건을 만족시키는 자연수 n 의 최솟값은 6

23) [정답] 120

[해설]

근과 계수의 관계에 의해 $\alpha + \beta = -2a, \alpha\beta = -b$ 이므로

$(\alpha - \beta)^2 = (\alpha + \beta)^2 - 4\alpha\beta$

$= (-2a)^2 + 4b$

$= 4a^2 + 4b$

$|\alpha - \beta| = 2\sqrt{a^2 + b} < 12$ (a, b 는 자연수)이므로 $a^2 + b < 36$ 이다.

$a = 1$ 일 때, $b < 35$ 이므로 순서쌍 (a, b) 는

$(1, 1), (1, 2), \dots, (1, 34)$ 로 개수는 34이다.

$a = 2$ 일 때, $b < 32$ 이므로 순서쌍 (a, b) 는

$(2, 1), (2, 2), \dots, (2, 31)$ 로 개수는 31이다.

$a=3$ 일 때, $b < 27$ 이므로 순서쌍 (a, b) 는 $(3, 1), (3, 2), \dots, (3, 26)$ 으로 개수는 26이다.
 $a=4$ 일 때, $b < 20$ 이므로 순서쌍 (a, b) 는 $(4, 1), (4, 2), \dots, (4, 19)$ 로 개수는 19이다.
 $a=5$ 일 때, $b < 11$ 이므로 순서쌍 (a, b) 는 $(5, 1), (5, 2), \dots, (5, 10)$ 으로 개수는 10이다.
 따라서 구하는 순서쌍 (a, b) 의 총 개수는 $34 + 31 + 26 + 19 + 10 = 120$

24) [정답] ④

[해설]

x 에 대한 이차방정식

$\{x - f(k)\}\{x - g(k)\} = 0$ 이 서로 다른 두 실근

0, 4를 갖기 위해서는 실수 k 에 대하여

$$\begin{cases} f(k) = 0 \\ g(k) = 4 \end{cases} \text{ 또는 } \begin{cases} f(k) = 4 \\ g(k) = 0 \end{cases} \text{이다.}$$

조건을 만족시키는 모든 실수 k 의 개수가

3이므로 함수 $y = g(x)$ 의 그래프가 두 직선

$y = 0, y = 4$ 와 만나는 서로 다른 점의 개수는

3 또는 4이다.

(i) 만나는 점의 개수가 3인 경우

만나는 점의 x 좌표를 작은 수부터 크기 순서대로

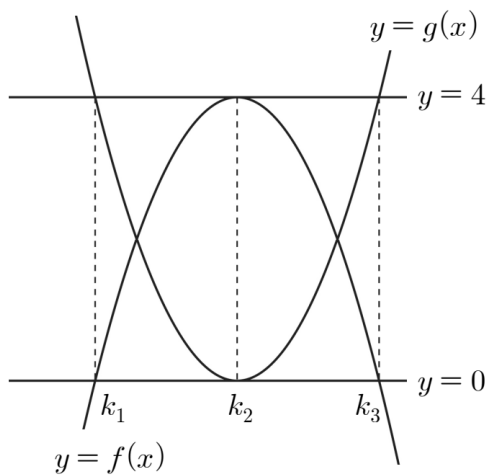
k_1, k_2, k_3 이라 하자.

$$g(k_1) = 4, g(k_2) = 0, g(k_3) = 4 \text{이고}$$

조건을 만족시키는 모든 실수 k 의 개수가 3이므로

함수 $y = f(x)$ 의 그래프는 세 점 $(k_1, 0), (k_2, 4), (k_3, 0)$ 을

모두 지나야 한다.



$f(2) = 4$ 이므로 $k_2 = 2$ 이고 함수 $y = g(x)$ 의

그래프가 점 $(2, 0)$ 에서 직선 $y = 0$ 에 접하므로

$$g(x) = (x - 2)^2$$

함수 $y = g(x)$ 의 그래프가

두 점 $(k_1, 4), (k_3, 4)$ 를 지나므로

$$(x - 2)^2 = 4 \text{에서 } x = 0 \text{ 또는 } x = 4$$

$$k_1 = 0, k_3 = 4$$

함수 $y = f(x)$ 의 그래프가 점 $(2, 4)$ 에서

직선 $y = 4$ 에 접하므로

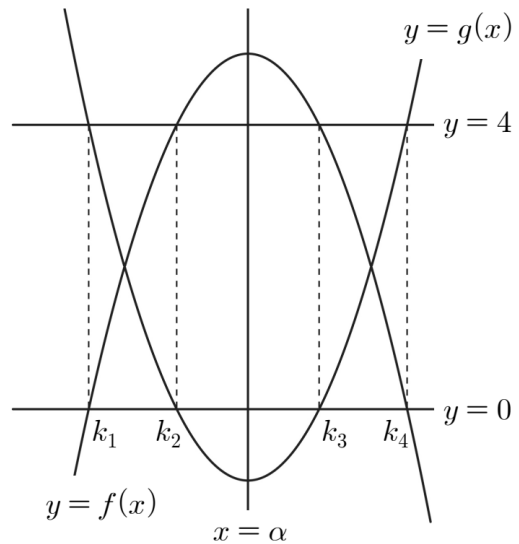
$$f(x) = a(x - 2)^2 + 4 \quad (a < 0) \text{이고}$$

두 점 $(0, 0), (4, 0)$ 을 지나므로

$$f(0) = f(4) = 4a + 4 = 0, \quad a = -1$$

$$f(x) = -(x - 2)^2 + 4$$

(ii) 만나는 점의 개수가 4인 경우



만나는 점의 x 좌표를 작은 수부터 크기 순서대로

k_1, k_2, k_3, k_4 라 하자.

$$g(k_1) = 4, g(k_2) = 0, g(k_3) = 0, g(k_4) = 4 \text{이고 함수}$$

$y = g(x)$ 의 그래프의 꼭짓점의 x 좌표를

$$\alpha \text{라 하면 } \frac{k_1 + k_4}{2} = \frac{k_2 + k_3}{2} = \alpha \quad \dots \textcircled{1}$$

$$k_1 < k_2 < \alpha < k_3 < k_4$$

조건을 만족시키는 모든 실수 k 의 개수가

3이므로 함수 $y = f(x)$ 의 그래프는 네 점

$$(k_1, 0), (k_2, 4), (k_3, 4), (k_4, 0)$$

중 세 점만을 지나야 한다.

(ㄱ) 두 점 $(k_1, 0), (k_4, 0)$ 을 지나는 경우

①에 의하여 함수 $y = f(x)$ 의 그래프의 꼭짓점의

x 좌표는 α 이고 이차함수의 그래프의 성질에 의하여

함수 $y = f(x)$ 의 그래프가 두 점

$$(k_2, 4), (k_3, 4) \text{ 중 한 점만을 지날 수 없으므로 모든}$$

실수 k 의 값이 k_1, k_2, k_3, k_4 로 4개가 되어 조건을

만족시키지 않는다.

(ㄴ) 두 점 $(k_2, 4), (k_3, 4)$ 를 지나는 경우

①에 의하여 함수 $y = f(x)$ 의 그래프의 꼭짓점의

x 좌표는 α 이고 이차함수의 그래프의 성질에 의하여

함수 $y = f(x)$ 의 그래프가 두 점

$$(k_1, 0), (k_4, 0) \text{ 중 한 점만을 지날 수 없으므로 모든}$$

실수 k 의 값이 k_1, k_2, k_3, k_4 로 4개가 되어 조건을

만족시키지 않는다.

(i), (ii)에 의하여

$$g(x) = (x-2)^2, f(x) = -(x-2)^2 + 4$$

따라서 $g(8) - f(8) = 36 - (-32) = 68$

25) [정답] ②

[해설]

이차함수 $y = ax^2$ ($a > 0$)의 그래프와

직선 $y = x + 6$ 이 만나는 점의 x 좌표는 $ax^2 = x + 6$ 에서

이차방정식 $ax^2 - x - 6 = 0$ 의 두 실근 α, β ($\alpha < \beta$)와

같으므로 이차방정식의 근과 계수의 관계에 의해

$$\alpha + \beta = \frac{1}{a}, \alpha\beta = -\frac{6}{a}$$

한편, $\overline{CA} = \beta - \alpha$ 이고 직선 $y = x + 6$ 의 기울기가

1이므로 $\frac{\overline{BC}}{\overline{CA}} = \frac{\overline{BC}}{\beta - \alpha} = 1$ 에서 $\beta - \alpha = \overline{BC} = \frac{7}{2}$

$$(\beta - \alpha)^2 = (\alpha + \beta)^2 - 4\alpha\beta$$

$$\left(\frac{7}{2}\right)^2 = \left(\frac{1}{a}\right)^2 - 4 \times \left(-\frac{6}{a}\right)$$

$$\left(\frac{1}{a}\right)^2 + \frac{24}{a} - \frac{49}{4} = 0$$

이므로 $49a^2 - 96a - 4 = 0$ 에서

$$(49a + 2)(a - 2) = 0$$

$a > 0$ 이므로 $a = 2$

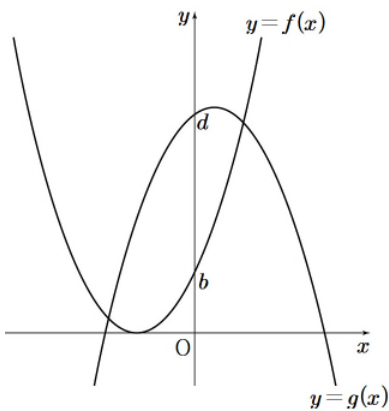
따라서

$$\begin{aligned} \alpha^2 + \beta^2 &= (\alpha + \beta)^2 - 2\alpha\beta \\ &= \left(\frac{1}{2}\right)^2 - 2 \times \left(-\frac{6}{2}\right) \\ &= \frac{1}{4} + 6 = \frac{25}{4} \end{aligned}$$

이다.

26) [정답] ⑤

[해설]



ㄱ. $y = f(x)$ 의 그래프가 x 축에 접하므로 방정식 $f(x) = 0$ 의

판별식 $D = a^2 - 4b = 0$ 이다. (참)

ㄴ. ㄱ에 의하여 $b = \frac{a^2}{4}$ 이므로 $a^2 - 4d = 4b - 4d$ 이다.

$b - d < 0$ 이므로 $a^2 - 4d < 0$ 이다. (참)

ㄷ. 두 그래프가 서로 다른 두 점에서 만나므로 이차방정식

$f(x) = g(x)$ 는 서로 다른 두 실근을 갖는다.

$$x^2 + ax + b = -x^2 + cx + d$$

$$2x^2 + (a - c)x + b - d = 0$$

의 판별식

$$D = (a - c)^2 - 8(b - d) > 0$$

(참)

따라서 옳은 것은 ㄱ, ㄴ, ㄷ이다.

27) [정답] ②

[해설]

$y = (x - k)^2 - 2$ 의 그래프와 직선 $y = 2$ 가 서로 다른 두 점 A, B에서 만나므로

$$(x - k)^2 - 2 = 2, (x - k)^2 = 4$$

$$x = k - 2 \text{ 또는 } x = k + 2$$

따라서 A($k - 2, 2$), B($k + 2, 2$)

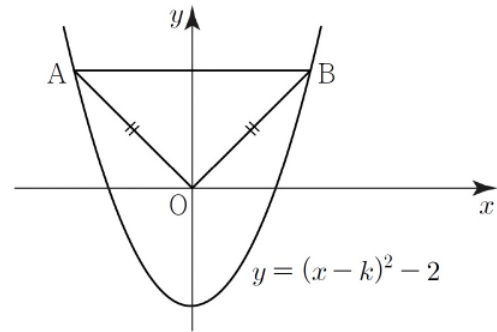
$$\overline{AB} = (k + 2) - (k - 2) = 4$$

삼각형 AOB가 이등변삼각형이 되는 경우는

(i) $\overline{OA} = \overline{OB}$ 인 경우

$$\sqrt{(k - 2)^2 + 2^2} = \sqrt{(k + 2)^2 + 2^2}$$

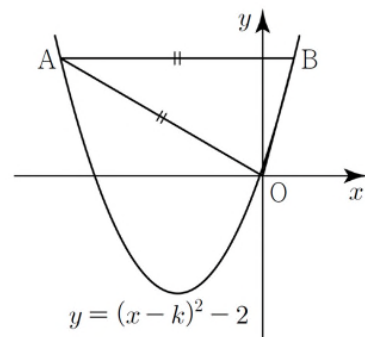
$$(k - 2)^2 = (k + 2)^2, k = 0$$



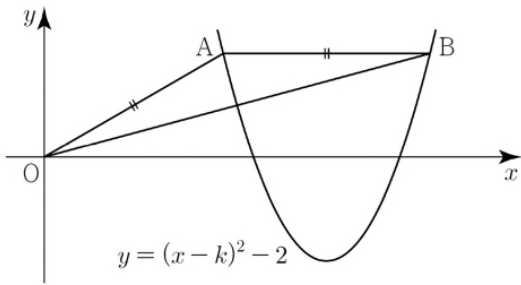
(ii) $\overline{OA} = \overline{AB}$ 인 경우

$$\sqrt{(k - 2)^2 + 2^2} = 4, k^2 - 4k - 8 = 0$$

$$k = 2 - 2\sqrt{3} \text{ 또는 } k = 2 + 2\sqrt{3}$$



[$k = 2 - 2\sqrt{3}$ 인 경우]

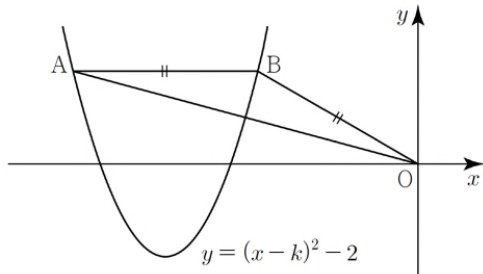


[$k=2+2\sqrt{3}$ 인 경우]

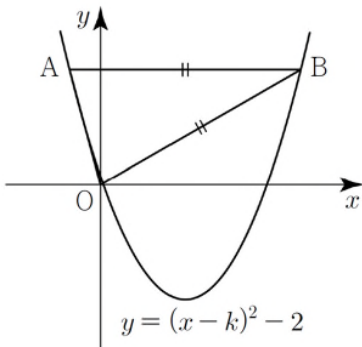
(iii) $\overline{OB} = \overline{AB}$ 인 경우

$$\sqrt{(k+2)^2 + 2^2} = 4, \quad k^2 + 4k - 8 = 0$$

$$k = -2 - 2\sqrt{3} \quad \text{또는} \quad k = -2 + 2\sqrt{3}$$



[$k=-2-2\sqrt{3}$ 인 경우]



[$k=2+2\sqrt{3}$ 인 경우]

(i), (ii), (iii)에서 $n=5, M=2+2\sqrt{3}$

따라서 $n+M=5+(2+2\sqrt{3})=7+2\sqrt{3}$

28) [정답] 48

[해설]

곡선 $y=ax^2$ 과 직선 $y=mx+4a$ 가 만나는 두 점 A, B의 x좌표를 각각 α, β 라 하면

$$A(\alpha, a\alpha^2), B(\beta, a\beta^2)$$

이차방정식 $ax^2 - mx - 4a = 0$ 의 두 실근이 α, β 이므로

이차방정식의 근과 계수의 관계에 의하여

$$\alpha + \beta = \frac{m}{a}, \quad \alpha\beta = -4$$

선분 AB가 원 C의 지름이므로 $\angle BOA = 90^\circ$

직선 OA의 기울기와 직선 OB의 기울기의 곱이 -1 이므로

$$\begin{aligned} \frac{a\alpha^2 - 0}{\alpha - 0} \times \frac{a\beta^2 - 0}{\beta - 0} &= a\alpha \times a\beta \\ &= a^2 \times \alpha\beta \end{aligned}$$

$$= -4a^2 = -1$$

에서 양수 a 의 값은 $\frac{1}{2}$

점 $P\left(k, \frac{k^2}{2}\right)$ 은 원 C 위의 점이므로 $\angle APB = 90^\circ$

직선 PA의 기울기와 직선 PB의 기울기의 곱이 -1 이므로

$$\begin{aligned} \frac{\frac{\alpha^2}{2} - \frac{k^2}{2}}{\alpha - k} \times \frac{\frac{\beta^2}{2} - \frac{k^2}{2}}{\beta - k} &= \frac{1}{4}(\alpha + k)(\beta + k) \\ &= \frac{1}{4}\{k^2 + (\alpha + \beta)k + \alpha\beta\} \\ &= \frac{1}{4}(k^2 + 2mk - 4) = -1 \end{aligned}$$

$$k^2 + 2mk = 0, \quad k = -2m \text{이고 } P(-2m, 2m^2)$$

점 $P(-2m, 2m^2)$ 과 직선 $y=mx+2$ 사이의 거리를 d_1 이라 하면

$$d_1 = \frac{|m \times (-2m) - 2m^2 + 2|}{\sqrt{m^2 + 1}} = \frac{|-4m^2 + 2|}{\sqrt{m^2 + 1}}$$

점 O와 직선 $y=mx+2$ 사이의 거리를 d_2 라 하면

$$d_2 = \frac{2}{\sqrt{m^2 + 1}}$$

삼각형 ABP와 삼각형 AOB의 넓이의 비는 $d_1 : d_2$ 이므로

$$\frac{|-4m^2 + 2|}{\sqrt{m^2 + 1}} : \frac{2}{\sqrt{m^2 + 1}} = 5 : 1 \text{에서}$$

$$|-4m^2 + 2| = 10, \quad m^2 = 3$$

m 은 양수이므로 $m = \sqrt{3}, k = -2\sqrt{3}$

따라서 $f(x) = \frac{1}{2}x^2, g(x) = \sqrt{3}x + 2$ 이므로

$$f(k) \times g(-k) = 6 \times 8 = 48$$

29) [정답] ①

[해설]

$f(x) = x^2 - x + k$ 라 하면 방정식 $f(x) = x + 1$ 의 두 실근이

$x = \alpha, \beta$ 이므로 $y = f(x)$ 의 그래프와 직선 $y = x + 1$ 은

$A(\alpha, f(\alpha)), C(\beta, f(\beta))$ 에서 만난다.

직선 $y = x + 1$ 의 기울기는 1이므로 삼각형 ABC는 직각

이등변삼각형이며 $f(\alpha) = \alpha + 1, f(\beta) = \beta + 1$ 이다.

삼각형의 넓이는 $(\beta - \alpha)^2 \times \frac{1}{2} = 8$ 이고, $\alpha < \beta$ 이므로

$$\beta - \alpha = 4$$

한편, 근과 계수의 관계에 의해 $\alpha + \beta = 2$ 이므로

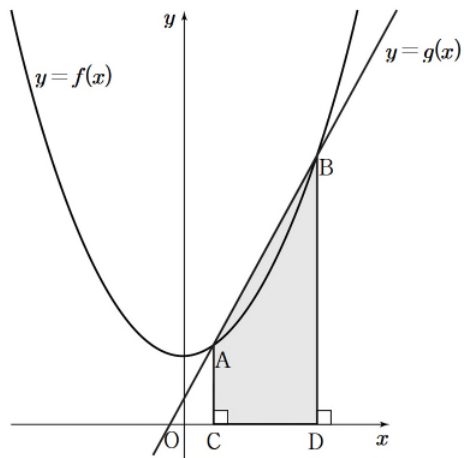
$$\alpha = -1, \beta = 3$$

따라서 $k = -2$ 이므로 $f(x) = x^2 - x - 2$

$$f(6) = 6^2 - 6 - 2 = 28$$

30) [정답] ④

[해설]



두 함수 $y=f(x)$ 와 $y=g(x)$ 의 그래프의 교점의 x 좌표를 구하면

$$x^2 + n^2 = 2nx + 1, \quad x^2 - 2nx + n^2 - 1 = 0$$

$$\therefore x = n - 1 \text{ 또는 } x = n + 1$$

따라서 점 $A(n-1, 2n^2 - 2n + 1)$, $B(n+1, 2n^2 + 2n + 1)$ 라 하면 $C(n-1, 0)$, $D(n+1, 0)$ 이다.

사각형 ACDB의 넓이는

$$\frac{1}{2}(\overline{AC} + \overline{BD}) \times \overline{CD} = \frac{1}{2}(4n^2 + 2) \times 2 = 4n^2 + 2$$

따라서 문제의 조건을 만족시키는 자연수 n 은 $4n^2 + 2 = 66$

즉, $n^2 = 16$ 이므로 $n = 4$