

p089 예제1 단순변형

1. 삼차함수 $f(x)$ 가 다음 조건을 만족시킬 때, 곡선 $y=f(x)$ 와 x 축으로 둘러싸인 부분의 넓이는?

(가) 방정식 $f(x)=0$ 을 만족시키는 실수 x 의 값은 0, 1, 2이다.

(나) $\int_{-1}^1 f(x)dx = -6$

1)

- ① $\frac{1}{2}$ ② 1 ③ $\frac{3}{2}$
④ 2 ⑤ $\frac{2}{5}$

p089 유제1 단순변형

2. 다항함수 $f(x)$ 에 대하여 $f'(x) = 3x^2 + 6x - 40$ 이고 $f(0) = 0$ 일 때, 곡선 $y=f(x)$ 와 x 축으로 둘러싸인 부분의 넓이는? 2)

- ① $\frac{131}{4}$ ② $\frac{133}{4}$ ③ $\frac{135}{4}$
④ $\frac{137}{4}$ ⑤ $\frac{139}{4}$

p091 유제3 단순변형

3. 곡선 $y = -x^3 + 2x^2 + 3x$ 위의 점 (2, 6)에서의 접선을 l 이라 할 때, 곡선 $y = -x^3 + 2x^2 + 3x$ 와 직선 l 로 둘러싸인 부분의 넓이는? 3)

- ① $\frac{47}{3}$ ② $\frac{53}{3}$ ③ $\frac{59}{3}$
④ $\frac{64}{3}$ ⑤ $\frac{71}{3}$

p091 유제4 단순변형

4. 두 함수 $f(x) = \begin{cases} x+2 & (x < 0) \\ -x^2+2 & (x \geq 0) \end{cases}$ 과 $g(x) = x^2$ 에 대하여 두 함수 $y=f(x)$, $y=g(x)$ 의 그래프로 둘러싸인 부분의 넓이는? 4)

- ① $\frac{3}{2}$ ② $\frac{5}{2}$ ③ 3
④ $\frac{7}{2}$ ⑤ 5

p093 유제5 단순변형

5. 곡선 $y = (x+a)(x+1)^2$ ($x \geq -a$)와 x 축 및 y 축으로 둘러싸인 부분의 넓이가

곡선 $y = (x+a)(x+1)^2$ 과 x 축으로 둘러싸인 부분의 넓이와 서로 같을 때, 상수 a 의 값은? (단, $0 < a < 1$)⁵⁾

- ① $\frac{1}{8}$ ② $\frac{1}{4}$ ③ $\frac{1}{2}$
- ④ 1 ⑤ 2

p095 예제4 단순변형

7. 수직선 위를 움직이는 점 P 의 시각 t ($t \geq 0$)에서의 속도 $v(t)$ 가 $v(t) = 2t + a$ 이다.

시각 $t=1$ 에서 $t=2$ 까지 점 P 의 위치의 변화량이 2일 때, 시각 $t=1$ 에서 $t=2$ 까지 점 P 가 움직인 거리는? (단, a 는 상수이다.)⁷⁾

- ① 1 ② 2 ③ 3
- ④ 4 ⑤ 5

p093 006 단순변형

6. 함수 $f(x) = x^2 + 2$ ($x \geq 0$)의 역함수를 $g(x)$ 라 할 때, 곡선 $y = g(x)$ 와 직선 $y = x - 2$ 으로 둘러싸인 부분의 넓이를 $\frac{q}{p}$ 라 하자. $p+q$ 값을 구하시오. (단, p 와 q 는 서로소인 자연수이다.)⁶⁾

p095 유제7 단순변형

8. 수직선 위를 움직이는 점 P 의 시각 t ($t \geq 0$)에서의 속도 $v(t)$ 가 $v(t) = t^2 - 6t$ 이다. $t=0$ 에서의 점 P 의 위치와 $t=a$ 에서의 점 P 의 위치가 서로 같을 때, 양수 a 의 값은? ⁸⁾

- ① 5 ② 6 ③ 7
- ④ 8 ⑤ 9

p096 002 단순변형

9. 곡선 $y = x^3 - 2x^2 + x$ 과 x 축으로 둘러싸인 부분의 넓이는?9)

- ① $\frac{1}{6}$ ② $\frac{1}{12}$ ③ $\frac{5}{12}$
- ④ $\frac{1}{3}$ ⑤ $\frac{1}{4}$

p096 004 단순변형

11. $y = ax^2$, $y = -ax^2 + 8a$ 로 둘러싸인 부분의 넓이가 64일 때, 양수 a 의 값은?11)

- ① 1 ② 2 ③ 3
- ④ 4 ⑤ 5

p096 003 단순변형

10. $y = -x^3 - x^2$ 과 직선 $y = -2x$ 로 둘러싸인 부분의 넓이를 구하시오10)

p097 005 단순변형

12. 곡선 $y = x^2 - 2x - 3$ 와 x 축으로 둘러싸인 부분의 넓이와 곡선 $y = x^2 - 2x - 3$ ($x \geq 3$)와 x 축 및 직선 $x = k$ 로 둘러싸인 부분의 넓이가 서로 같을 때, 상수 k 의 값은?(단, $k > 3$) 12)

- ① 1 ② 2 ③ 3
- ④ 4 ⑤ 5

p097 007단순변형

13. 수직선 위를 움직이는 점 P 의 시각 $t(t \geq 0)$ 에서의 속도 $v(t)$ 가

$$v(t) = \begin{cases} 3t^2 + 3 & (0 \leq t < 1) \\ -2t^2 + 8 & (t \geq 1) \end{cases} \text{ 이다.}$$

점 P 가 시각 $t=0$ 에서 $t=3$ 까지 움직인 거리는?
13)

- ① 4 ② 6 ③ 8
- ④ 10 ⑤ 12

p097 008단순변형

14. 시각 $t=0$ 일 때 동시에 원점을 출발하여 수직선 위를 움직이는 두 점 P, Q 의 시각 $t(t \geq 0)$ 에서의 속도를 각각 $v_1(t), v_2(t)$ 라 할 때,

$$v_1(t) = 3t^2 - 4t, \quad v_2(t) = 8t + 2 \text{ 이다.}$$

출발한 후 두 점 P, Q 의 가속도가 서로 같아지는 순간 두 점 P, Q 의 위치는 각각 x_1, x_2 이다.

$x_1 + x_2$ 의 값을 구하시오. 14)

p098 003단순변형

15. 양수 a 에 대하여 곡선 $y = x(x - a)$ ($x \geq a$)와 x 축 및 직선 $x = 3a$ 로 둘러싸인 부분의 넓이를 S_1 , 곡선 $y = x(x - a)$ ($x \geq 0$)과 y 축 및 직선 $y = 6a^2$ 으로 둘러싸인 부분의 넓이를 S_2 라 하자.

$S_2 - S_1 = \frac{53}{48}$ 일 때, a 의 값은? 15)

- ① $\frac{1}{2}$ ② 1 ③ $\frac{3}{2}$
- ④ 2 ⑤ $\frac{2}{5}$

p098

003단순변형

16. 다항함수 $f(x)$ 가 다음 조건을 만족시킨다.

$$(가) \lim_{x \rightarrow \infty} \frac{f(x) - x^2}{x} = -2$$

(나) 방정식 $f(x) = 0$ 의 모든 근의 곱은 -7 이다.

두 함수 $y = f(x)$, $y = f'(x)$ 의 그래프로 둘러싸인 부분의 넓이는? ¹⁶⁾

- ① 30 ② 33 ③ 36
 ④ 38 ⑤ 40

p99

008단순변형

18. 시각 $t=0$ 일 때 동시에 원점을 출발하여 수직선 위를 움직이는 두 점 P, Q 의 시각 t ($t \geq 0$)에서의 속도를 각각 $v_1(t)$, $v_2(t)$ 라 할 때,

$$v_1(t) = 4t^3 + 4t, \quad v_2(t) = 6t^2 + 2t \text{ 이다.}$$

시각 $(0 \leq t \leq 2)$ 에서의 두 점 P, Q 의 위치를 각각 $x_1(t)$, $x_2(t)$ 라 할 때, $|x_1(t) - x_2(t)|$ 의 최댓값은? ¹⁸⁾

- ① 1 ② 2 ③ 3
 ④ 4 ⑤ 5

p99

007단순변형

17. 함수 $f(x) = x^3 - 3x^3 + 3x - 6$ 의 역함수를 $g(x)$ 라 하자. 두 곡선 $y = f(x)$, $y = g(x)$ 및 x 축으로 둘러싸인 부분의 넓이를 S 라 할 때,

$$S - \int_0^3 g(x) dx \text{의 값을 구하시오.}^{17)}$$

p100 001 단순변형

19. 최고차항의 계수가 1인 삼차함수 $f(x)$ 에 대하여 함수 $g(x)$ 를

$$g(x) = f(x) - |f(x)|$$

라 하고, 함수 $h(x) = \int_0^x g(t)dt$ 라 할 때, 두 함수 $g(x)$ 와 $h(x)$ 가 다음 조건을 만족시킨다.¹⁹⁾

- (가) $g(0) = 0$
 (나) 방정식 $h(x) = 0$ 의 실근은 $x = 0$ 뿐이다.

$f(1) = -2$ 일 때 곡선 $y = f(x)$ 와 x 축으로 둘러싸인 부분의 넓이는?

- ① $\frac{25}{4}$ ② $\frac{27}{4}$ ③ $\frac{29}{4}$
 ④ $\frac{31}{4}$ ⑤ $\frac{33}{4}$

p101 004 단순변형

20. 최고차항의 계수가 양수인 삼차함수 $f(x)$ 가 다음 조건을 만족시킨다.

- (가) $f'(1) = 0, f'(-1) = 0$
 (나) $f(1)f(-1) \leq 0$
 (다) $f(1)f(-1) < 0$ 이면 $f(0) = 0$ 이다.

두곡선 $y = f(x), y = -f(x)$ 로 둘러싸인 부분의 넓이가 54일 때, $f(2)$ 의 최댓값은?²⁰⁾

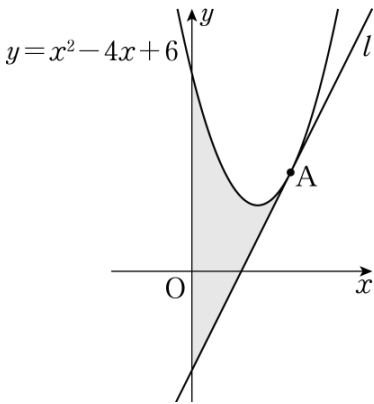
- ① 16 ② 32 ③ 64
 ④ 128 ⑤ 256

p096 002 응용변형

21. 곡선 $y = -x^2 + 4x - 4$ 와 x 축 및 y 축으로 둘러싸인 부분의 넓이를 S 라 할 때, $12S$ 의 값을 구하시오. 21)

p096 003 응용변형

22. 그림과 같이 곡선 $y = x^2 - 4x + 6$ 위의 점 $A(3, 3)$ 에서의 접선을 l 이라 할 때, 곡선 $y = x^2 - 4x + 6$ 과 직선 l 및 y 축으로 둘러싸인 부분의 넓이는? 22)



- ① $\frac{26}{3}$ ② 9 ③ $\frac{28}{3}$
 ④ $\frac{29}{3}$ ⑤ 10

p091 유제 4 응용변형

23. 두 함수

$$f(x) = x^2 - 4x, \quad g(x) = \begin{cases} -x^2 + 2x & (x < 2) \\ -x^2 + 6x - 8 & (x \geq 2) \end{cases}$$

의 그래프로 둘러싸인 부분의 넓이는? 23)

- ① $\frac{40}{3}$ ② 14 ③ $\frac{44}{3}$
 ④ $\frac{46}{3}$ ⑤ 16

p095 유제 7 응용변형

24. 시각 $t = 0$ 일 때 원점을 출발하여 수직선 위를 움직이는

점 P의 시각 $t (t \geq 0)$ 에서의 속도 $v(t)$ 가

$$v(t) = 3t^2 + 6t - a$$

이다. 시각 $t = 3$ 에서의 점 P의 위치가 6일 때, 상수 a 의 값을 구하시오. 24)

p095 유제 8 응용변형

25. 수직선 위를 움직이는 점 P의 시간 t ($t \geq 0$)에서의 속도 $v(t)$ 가

$$v(t) = 4t^3 - 48t$$

이다. 시간 $t = k$ ($k > 0$)에서 점 P의 가속도가 0일 때, 시간 $t = 0$ 에서 $t = k$ 까지 점 P가 움직인 거리를 구하시오. (단, k 는 상수이다.) 25)

p098 001 응용변형

26. 두 양수 a, b ($a < b$)에 대하여 함수 $f(x)$ 를 $f(x) = (x-a)(x-b)$ 라 하자.

$$\int_0^a f(x)dx = \frac{11}{6}, \int_0^b f(x)dx = -\frac{8}{3}$$

일 때, 곡선 $y = f(x)$ 와 x 축으로 둘러싸인 부분의 넓이는? 26)

① 4 ② $\frac{9}{2}$ ③ 5

④ $\frac{11}{2}$ ⑤ 6

p099 006 응용변형

27. 최고차항의 계수가 -3 인 삼차함수 $y = f(x)$ 의 그래프 위의 점 $(2, f(2))$ 에서의 접선 $y = g(x)$ 가 곡선 $y = f(x)$ 와 원점에서 만난다. 곡선 $y = f(x)$ 와 직선 $y = g(x)$ 로 둘러싸인 도형의 넓이는? (27)

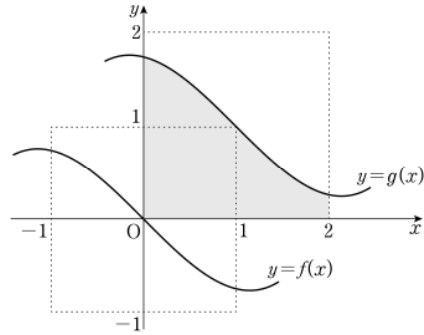
- ① $\frac{7}{2}$ ② $\frac{15}{4}$ ③ 4
 ④ $\frac{17}{4}$ ⑤ $\frac{9}{2}$

p100 003 응용변형

28. 최고차항의 계수가 1인 삼차함수 $f(x)$ 가 $f(0) = 0$ 이고, 모든 실수 x 에 대하여 $f(1-x) = -f(1+x)$ 를 만족시킨다. 두 곡선 $y = f(x)$ 와 $y = -6x^2$ 으로 둘러싸인 부분의 넓이를 S 라 할 때, $4S$ 의 값을 구하시오. (28)

p098 002 응용변형

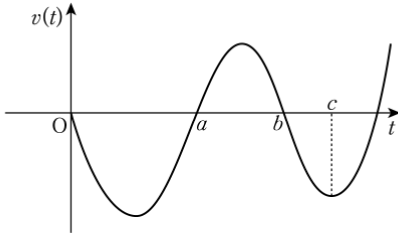
29. 그림은 모든 실수 x 에 대하여 $f(-x) = -f(x)$ 인 연속함수 $y = f(x)$ 의 그래프와 함수 $y = f(x)$ 의 그래프를 x 축의 방향으로 1만큼, y 축의 방향으로 1만큼 평행이동시킨 함수 $y = g(x)$ 의 그래프이다. $\int_0^2 g(x) dx$ 의 값은? (29)



- ① $\frac{7}{4}$ ② 2 ③ $\frac{9}{4}$
 ④ $\frac{5}{2}$ ⑤ $\frac{11}{4}$

p101 005 응용변형

30. 원점을 출발하여 수직선 위를 움직이는 점 P의 시각 t ($t \geq 0$)에서의 속도 $v(t)$ 의 그래프가 그림과 같다.



점 P가 출발한 후 처음으로 운동 방향을 바꿀 때의 위치는 -8 이고 점 P의 시각 $t=c$ 에서의 위치는 -6 이다.

$$\int_0^b v(t)dt = \int_b^c v(t)dt \text{ 일 때, 점 P가 } t=a \text{ 부터}$$

$t=b$ 까지 움직인 거리는? 30)

- ① 3 ② 4 ③ 5
- ④ 6 ⑤ 7

정답 및 해설

1	③	2	①	3	④	4	②	5	②
6	7	7	②	8	⑤	9	②	10	$\frac{37}{12}$
11	③	12	⑤	13	⑤	14	20	15	①
16	③	17	$\frac{45}{4}$	18	④	19	②	20	①
21	32	22	②	23	①	24	16	25	80
26	②	27	③	28	2	29	②	30	③

1) 정답 ③

[출제범위] 곡선과 x 축 사이의 넓이

[해설]

조건 (가)에서

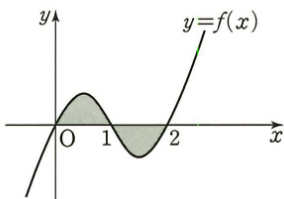
$f(x) = ax(x-1)(x-2) = a(x^3 - 3x^2 + 2x)$ (a 는 0이 아닌 상수)로 놓을 수 있다.

조건 (나)에서

$$\begin{aligned} \int_{-1}^1 f(x)dx &= \int_{-1}^1 a(x^3 - 3x^2 + 2x)dx \\ &= 2 \int_0^1 (-3ax^2)dx = 2[-ax^3]_0^1 = -2a = -6 \end{aligned}$$

이므로 $a = 3$, $f(x) = 3(x^3 - 3x^2 + 2x)$

따라서 곡선 $y = f(x)$ 와 x 축으로 둘러싸인 부분의 넓이는



$$\begin{aligned} &\int_0^2 |f(x)| dx \\ &= \int_0^1 (3x^3 - 9x^2 + 6x)dx + \int_1^2 (-3x^3 + 9x^2 - 6x)dx \\ &= \left[\frac{3}{4}x^4 - 3x^3 + 3x^2 \right]_0^1 + \left[-\frac{3}{4}x^4 + 3x^3 - 3x^2 \right]_1^2 \\ &= \frac{3}{4} + \frac{3}{4} = \frac{3}{2} \end{aligned}$$

필수 개념

▶ 곡선과 x 축 사이의 넓이

함수 $f(x)$ 가 닫힌구간 $[a, b]$ 에서 연속일 때, 곡선 $y = f(x)$ 와 x 축 및 두 직선 $x = a$, $x = b$ 로 둘러싸인 부분의 넓이 S 는

$$S = \int_a^b |f(x)| dx$$

2) 정답 ①

[출제범위] 곡선과 x 축 사이의 넓이

[해설]

$$\begin{aligned} f(x) &= \int (3x^2 + 6x - 4)dx \\ &= x^3 + 3x^2 - 4x + C \end{aligned}$$

(단, C 는 적분상수)

$f(x) = x^3 + 3x^2 - 4x = x(x+4)(x-1)$ 이므로

$f(x) = 0$ 에서 $x = -4$ 또는 $x = 0$ 또는 $x = 1$ 을 근으로 갖는다.

따라서 구하는 넓이는

$$\begin{aligned} &\int_{-4}^1 |x^3 + 3x^2 - 4x| dx \\ &= \int_{-4}^0 (x^3 + 3x^2 - 4x)dx + \int_0^1 (-x^3 - 3x^2 + 4x)dx \\ &= \left[\frac{1}{4}x^4 + x^3 - 2x^2 \right]_{-4}^0 + \left[-\frac{1}{4}x^4 - x^3 + 2x^2 \right]_0^1 \\ &= 32 + \frac{3}{4} = \frac{131}{4} \end{aligned}$$

필수 개념

▶ 곡선과 x 축 사이의 넓이

함수 $f(x)$ 가 닫힌구간 $[a, b]$ 에서 연속일 때, 곡선 $y = f(x)$ 와 x 축 및 두 직선 $x = a$, $x = b$ 로 둘러싸인 부분의 넓이 S 는

$$S = \int_a^b |f(x)| dx$$

3) 정답 ④

[출제범위] 두 곡선 사이의 넓이

[해설]

$f(x) = -x^3 + 2x^2 + 3x$ 라 하면

$f'(x) = -3x^2 + 4x + 3$

곡선 $y = -x^3 + 2x^2 + 3x$ 위의 점 $(2, 6)$ 에서의 접선의 기울기는 $f'(2) = -1$ 이므로 접선 l 의 방정식은

$$y - 6 = -(x - 2) \quad \text{즉, } y = -x + 8$$

곡선 $y = -x^3 + 2x^2 + 3x$ 와 접선 l 의 교점의 x 좌표는

$$-x^3 + 2x^2 + 3x = -x + 8$$

$$x^3 - 2x^2 - 4x + 8 = 0$$

$$(x - 2)^2(x + 2) = 0$$

$$x = 2 \quad \text{또는 } x = -2$$

구하는 넓이는

$$\begin{aligned} & \int_{-2}^2 |(-x + 8) - (-x^3 + 2x^2 + 3x)| dx \\ &= \int_{-2}^2 \{(-x + 8) - (-x^3 + 2x^2 + 3x)\} dx \\ &= \int_{-2}^2 (x^3 - 2x^2 - 4x + 8) dx \\ &= 2 \int_0^2 (-2x^2 + 8) dx \\ &= 2 \left[-\frac{2}{3}x^3 + 8x \right]_0^2 = \frac{64}{3} \end{aligned}$$

필수 개념

▶ 두 곡선 사이의 넓이

두 함수 $f(x)$, $g(x)$ 가 닫힌구간 $[a, b]$ 에서 연속일 때, 두 곡선 $y = f(x)$, $y = g(x)$ 및 두 직선 $x = a$, $x = b$ 로 둘러싸인 부분의 넓이 S 는

$$S = \int_a^b |f(x) - g(x)| dx$$

4) 정답 ②

[출제범위] 두 곡선 사이의 넓이

[해설]

두 함수 $y = f(x)$ 와 $y = g(x)$ 의 그래프의 교점의 x 좌표는

(i) $x < 0$ 인 경우

$$x + 2 = x^2 \text{에서}$$

$$x^2 - x - 2 = 0$$

$$(x - 2)(x + 1) = 0$$

$$x < 0 \text{이므로 } x = -1$$

(ii) $x \geq 0$ 인 경우

$$-x^2 + 2 = x^2$$

$$2x^2 - 2 = 0$$

$$2(x + 1)(x - 1) = 0$$

$$x \geq 0 \text{ 이므로 } x = 1$$

따라서 구하는 넓이는

$$\begin{aligned} & \int_{-1}^1 |f(x) - g(x)| dx \\ &= \int_{-1}^0 (x + 2 - x^2) dx + \int_0^1 (-x^2 + 2 - x^2) dx \\ &= \left[-\frac{1}{3}x^3 + \frac{1}{2}x^2 + 2x \right]_{-1}^0 + \left[-\frac{2}{3}x^3 + 2x \right]_0^1 \\ &= \frac{7}{6} + \frac{4}{3} = \frac{15}{6} = \frac{5}{2} \end{aligned}$$

필수 개념

▶ 두 곡선 사이의 넓이

두 함수 $f(x)$, $g(x)$ 가 닫힌구간 $[a, b]$ 에서 연속일 때, 두 곡선 $y = f(x)$, $y = g(x)$ 및 두 직선 $x = a$, $x = b$ 로 둘러싸인 부분의 넓이 S 는

$$S = \int_a^b |f(x) - g(x)| dx$$

5) 정답 ②

[출제범위] 곡선과 x 축으로 둘러싸인 두 부분의 넓이가 같은 경우

[해설]

$f(x) = (x + a)(x + 1)^2$ 이라 하자.

곡선 $y = (x + a)(x + 1)^2$ ($x \geq -a$)와 x 축 및 y 축으로 둘러싸인 부분의 넓이를 S_1 이라 하면

$$S_1 = \int_{-a}^0 |f(x)| dx = \int_{-a}^0 f(x) dx$$

곡선 $y = (x + a)(x + 1)^2$ 과 x 축으로 둘러싸인 부분의 넓이를 S_2 라 하면

$$S_2 = \int_{-1}^{-a} |f(x)| dx = \int_{-1}^{-a} -f(x) dx$$

$$S_1 = S_2 \text{이므로}$$

$$S_1 - S_2 = 0$$

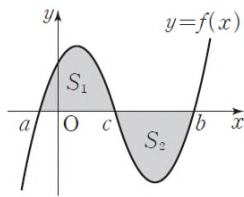
$$\begin{aligned}
S_1 - S_2 &= \int_{-a}^0 f(x)dx - \int_{-1}^{-a} -f(x)dx \\
&= \int_{-a}^0 f(x)dx + \int_{-1}^{-a} f(x)dx \\
&= \int_{-1}^0 f(x)dx \\
&= \int_{-1}^0 (x+a)(x+1)^2 dx \\
&= \int_{-1}^0 (x^3 + (2+a)x^2 + (2a+1)x + a) dx \\
&= \left[\frac{1}{4}x^4 + \frac{(2+a)}{3}x^3 + \frac{(2a+1)}{2}x^2 + ax \right]_{-1}^0 = 0
\end{aligned}$$

따라서 $a = \frac{1}{4}$

필수 개념

▶ 곡선과 x 축으로 둘러싸인 두 부분의 넓이가 같은 경우

함수 $f(x)$ 가 닫힌구간 $[a, b]$ 에서 연속이고, 그림과 같이 닫힌구간 $[a, c]$ 와 닫힌구간 $[c, b]$ 에서 곡선 $y=f(x)$ 와 x 축으로 둘러싸인 부분의 넓이를 각각 S_1, S_2 라고 할 때,



$S_1 = S_2$ 이면 $\int_a^b f(x)dx = 0$

6) 정답 7

[출제범위] 두 곡선으로 둘러싸인 부분의 넓이가 같은 경우

[해설]

함수 $y = x - 2$ 의 역함수는 $y = x + 2$ 이다.

함수 $y = f(x)$ 의 그래프와 $y = g(x)$ 의 그래프는 역함수 관계 이므로 직선 $y = x$ 에 대하여 대칭이다. 곡선 $y = g(x)$ 와 직선 $y = x - 2$ 으로 둘러싸인 부분의 넓이는 곡선 $y = f(x)$ 와 직선 $y = x + 2$ 으로 둘러싸인 넓이와 같다.

곡선 $y = f(x)$ 와 직선 $y = x + 2$ 의 교점의 x 좌표는

$x^2 + 2 = x + 2$ 에서

$x^2 - x = 0 = x(x - 1)$ 이므로

$x = 0$ 또는 $x = 1$

따라서 구하는 넓이는

$$\begin{aligned}
&\int_0^1 \{(x+2) - (x^2+2)\} dx = \int_0^1 (-x^2+x) dx \\
&= \left[-\frac{1}{3}x^3 + \frac{1}{2}x^2 \right]_0^1 = \frac{1}{6}
\end{aligned}$$

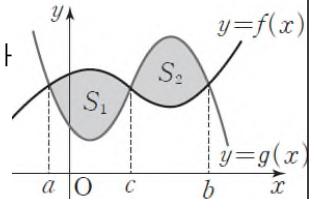
즉, $p = 6, q = 1$ 이므로 $p + q = 7$

필수 개념

▶ 두 곡선으로 둘러싸인 부분의 넓이가 같은 경우

두 함수 $f(x), g(x)$ 가 닫

힌구간 $[a, b]$ 에서 연속이고, 그림과 같이 닫힌구간 $[a, c]$ 와 닫힌구간



$[c, b]$ 에서 두 곡선 $y = f(x), y = g(x)$ 로 둘러싸인 부분의 넓이를 각각 S_1, S_2 라고 할 때,

$S_1 = S_2$ 이면 $\int_a^b \{f(x) - g(x)\} dx = 0$

7) 정답 ②

[출제범위] 속도와 거리

[해설]

시각 $t = 1$ 에서 $t = 2$ 까지 점 P 의 위치의 변화량은

$$\begin{aligned}
&\int_1^2 v(t) dt = \int_1^2 (2t + a) dt = [t^2 + at]_1^2 \\
&= 3 + a
\end{aligned}$$

$3 + a = 2, a = -1$

$v(t) = 2t - 1$

따라서 시각 $t = 1$ 에서 $t = 2$ 까지 점 P 가 움직인 거리는

$$\int_1^2 |v(t)| dt = \int_1^2 (2t - 1) dt = [t^2 - t]_1^2 = 2$$

필수 개념

▶ 속도와 거리

수직선 위를 움직이는 점 P의 시각 t에서의 속도를 v(t)라고 하자.

(1) 시각 t에서의 점 P의 위치를 $x = x(t)$ 라고

하면 $x(t) = x(a) + \int_a^t v(t)dt$

(2) 시각 t = a에서 t = b (a ≤ b)까지 점 P의

위치의 변화량은 $\int_a^b v(t)dt$

(3) 시각 t = a에서 t = b (a ≤ b)까지 점 P의

움직인 거리 s는 $s = \int_a^b |v(t)|dt$

필수 개념

▶ 속도와 거리

수직선 위를 움직이는 점 P의 시각 t에서의 속도를 v(t)라고 하자.

(1) 시각 t에서의 점 P의 위치를 $x = x(t)$ 라고

하면 $x(t) = x(a) + \int_a^t v(t)dt$

(2) 시각 t = a에서 t = b (a ≤ b)까지 점 P의

위치의 변화량은 $\int_a^b v(t)dt$

(3) 시각 t = a에서 t = b (a ≤ b)까지 점 P의

움직인 거리 s는 $s = \int_a^b |v(t)|dt$

8) 정답 ⑤

[출제범위] 속도와 거리

[해설]

시각 t (t ≥ 0)에서의 점 P의 위치를 x(t)라 하면

$$x(t) = x(0) + \int_0^t v(t)dt$$

시각 t = a에서의 점 P의 위치는

$$\begin{aligned} x(a) &= x(0) + \int_0^a v(t)dt \\ &= x(0) + \int_0^a (t^2 - 6t)dt \\ &= x(0) + \left[\frac{1}{3}t^3 - 3t^2 \right]_0^a \\ &= x(0) + \frac{1}{3}a^3 - 3a^2 \end{aligned}$$

x(a) = x(0)에서

$$\frac{1}{3}a^3 - 3a^2 = 0$$

$$\frac{1}{3}a^2(a - 9) = 0$$

a > 0이므로 a = 9

9) 정답 ②

[출제범위] 곡선과 x축 사이의 넓이

[해설]

곡선 $y = x^3 - 2x^2 + x$ 과 x축과 만나는 점의 x좌표는 $x^3 - 2x^2 + x = 0$ 에서

$$x(x-1)^2 = 0 \quad x = 0 \text{ 또는 } x = 1$$

따라서 구하는 넓이는

$$\begin{aligned} &\int_0^1 |x^3 - 2x^2 + x| dx \\ &= \int_0^1 (x^3 - 2x^2 + x) dx \\ &= \left[\frac{1}{4}x^4 - \frac{2}{3}x^3 + \frac{1}{2}x^2 \right]_0^1 = \frac{1}{12} \end{aligned}$$

필수 개념

▶ 곡선과 x축 사이의 넓이

함수 f(x)가 닫힌구간 [a, b]에서 연속일 때, 곡선 y = f(x)와 x축 및 두 직선 x = a, x = b로 둘러싸인 부분의 넓이 S는

$$S = \int_a^b |f(x)| dx$$

10) 정답 $\frac{37}{12}$

[출제범위] 곡선과 x축 사이의 넓이

[해설]

곡선 $y = -x^3 - x^2$ 과 직선 $y = -2x$ 의 교점의 x좌

표는

$$-x^3 - x^2 = -2x$$

$$x^3 + x^2 - 2x = 0$$

$$x(x+2)(x-1) = 0$$

$$x = -2 \text{ 또는 } x = 0 \text{ 또는 } x = 1$$

따라서 구하는 넓이는

$$\begin{aligned} & \int_{-2}^1 |-x^3 - x^2 + 2x| dx \\ &= \int_{-2}^0 (x^3 + x^2 - 2x) dx + \int_0^1 (-x^3 - x^2 + 2x) dx \\ &= \left[\frac{1}{4}x^4 + \frac{1}{3}x^3 - 2x^2 \right]_{-2}^0 + \left[-\frac{1}{4}x^3 - \frac{1}{3}x^2 + x^2 \right]_0^1 \\ &= \frac{8}{3} + \frac{5}{12} = \frac{37}{12} \end{aligned}$$

필수 개념

▶ 곡선과 x 축 사이의 넓이

함수 $f(x)$ 가 닫힌구간 $[a, b]$ 에서 연속일 때, 곡선 $y = f(x)$ 와 x 축 및 두 직선 $x = a$, $x = b$ 로 둘러싸인 부분의 넓이 S 는

$$S = \int_a^b |f(x)| dx$$

11) 정답 ③

[출제범위] 두 곡선 사이의 넓이

[해설]

두 곡선 $y = ax^2$, $y = -ax^2 + 8a$ 의 교점의 x 좌표는 $ax^2 = -ax^2 + 8a$, $2ax^2 = 8a$

$$a > 0 \text{ 이므로 } x^2 = 4$$

$$x = -2 \text{ 또는 } x = 2$$

두 곡선 $y = ax^2$, $y = -ax^2 + 8a$ 로 둘러싸인 부분의 넓이를 S 라 하면

$$S = \int_{-2}^2 (-ax^2 + 8a - ax^2) dx = \int_{-2}^2 (-2ax^2 + 8a) dx$$

$$= 4 \int_0^2 (-ax^2 + 4a) dx$$

$$= 4a \left[-\frac{1}{3}x^3 + 4x \right]_0^2 = \frac{64}{3}a$$

$$\frac{64}{3}a = 64, \text{ 따라서 } a = 3$$

필수 개념

▶ 두 곡선 사이의 넓이

두 함수 $f(x)$, $g(x)$ 가 닫힌구간 $[a, b]$ 에서 연속일 때, 두 곡선 $y = f(x)$, $y = g(x)$ 및 두 직선 $x = a$, $x = b$ 로 둘러싸인 부분의 넓이 S 는

$$S = \int_a^b |f(x) - g(x)| dx$$

12) 정답 ⑤

[출제범위] 두 곡선 사이의 넓이

[해설]

곡선 $y = x^2 - 2x - 3$ 과 x 축이 만나는 점의 좌표를 $x^2 - 2x - 3 = 0$ 에서

$$(x+1)(x-3) = 0 \quad x = -1 \text{ 또는 } x = 3$$

$$\int_{-1}^3 -(x^2 - 2x - 3) dx = \int_3^k (x^2 - 2x - 3) dx \text{ 이므로}$$

$$\int_{-1}^3 (x^2 - 2x - 3) dx + \int_3^k (x^2 - 2x - 3) dx = 0$$

$$\int_{-1}^k (x^2 - 2x - 3) dx = 0$$

$$\left[\frac{1}{3}x^3 - x^2 - 3x \right]_{-1}^k = \left(\frac{1}{3}k^3 - k^2 - 3k \right) - \frac{5}{3} \text{ 에서}$$

$$k^3 - 3k^2 - 9k - 5 = 0$$

$$(k+1)^2(k-5) = 0 \text{ 이 때, } k > 3 \text{ 이므로 } k = 5$$

필수 개념

▶ 두 곡선 사이의 넓이

두 함수 $f(x)$, $g(x)$ 가 닫힌구간 $[a, b]$ 에서 연속일 때, 두 곡선 $y = f(x)$, $y = g(x)$ 및 두 직선 $x = a$, $x = b$ 로 둘러싸인 부분의 넓이 S 는

$$S = \int_a^b |f(x) - g(x)| dx$$

13) 정답 ⑤

[출제범위] 속도와 거리

[해설]

점 P 가 시각 $t = 0$ 에서 $t = 3$ 까지 움직인 거리는

$$\int_0^3 |v(t)| dt$$

$$= \int_0^1 (3t^2 + 3) dt + \int_1^2 (-2t^2 + 8) dt + \int_2^3 (2t^2 - 8) dt$$

$$= [t^3 + 3t]_0^1 + \left[-\frac{2}{3}t^3 + 8t\right]_1^2 + \left[\frac{2}{3}t^3 - 8t\right]_2^3$$

$$= 12$$

필수 개념

▶ 속도와 거리

수직선 위를 움직이는 점 P의 시각 t에서의 속도를 v(t)라고 하자.

(1) 시각 t에서의 점 P의 위치를 $x = x(t)$ 라고

하면 $x(t) = x(a) + \int_a^t v(t) dt$

(2) 시각 t = a에서 t = b (a ≤ b)까지 점 P의

위치의 변화량은 $\int_a^b v(t) dt$

(3) 시각 t = a에서 t = b (a ≤ b)까지 점 P의

움직인 거리 s는 $s = \int_a^b |v(t)| dt$

14) 정답 20

[출제범위] 속도와 거리

[해설]

두 점 P, Q의 가속도를 각각 $a_1(t)$, $a_2(t)$ 라 하면 $a_1(t) = 6t - 4$, $a_2(t) = 8$

$a_1(t) = a_2(t)$ 에서 $6t - 4 = 8$, $t = 2$

시각 t = 0에서의 두 점 P, Q의 위치가 모두 원점이므로 시각 t = 2에서의 두 점 P, Q의 위치는 각각

$$x_1 = \int_0^2 (3t^2 - 4t) dt = [t^3 - 2t^2]_0^2 = 0$$

$$x_2 = \int_0^2 (8t + 2) dt = [4t^2 + 2t]_0^2 = 20$$

$$x_1 + x_2 = 20$$

필수 개념

▶ 속도와 거리

수직선 위를 움직이는 점 P의 시각 t에서의 속도를 v(t)라고 하자.

(1) 시각 t에서의 점 P의 위치를 $x = x(t)$ 라고

하면 $x(t) = x(a) + \int_a^t v(t) dt$

(2) 시각 t = a에서 t = b (a ≤ b)까지 점 P의

위치의 변화량은 $\int_a^b v(t) dt$

(3) 시각 t = a에서 t = b (a ≤ b)까지 점 P의

움직인 거리 s는 $s = \int_a^b |v(t)| dt$

15) 정답 ①

[출제범위] 곡선과 x축 사이의 넓이

[해설]

곡선 $y = x(x - a)$ ($x \geq a$)와 x축 및 직선 $x = 3a$ 로 둘러싸인 부분의 넓이 S_1 은

$$S_1 = \int_a^{3a} (x^2 - ax) dx$$

$$= \left[\frac{1}{3}x^3 - \frac{1}{2}ax^2 \right]_a^{3a}$$

$$= \frac{9}{2}a^3 + \frac{1}{6}a^3 = \frac{14}{3}a^3$$

곡선 $y = x(x - a)$ 와 직선 $y = 6a^2$ 이 만나는 점의 x좌표는 $x^2 - ax = 6a^2$,

$$x^2 - ax - 6a^2 = 0$$

$$(x + 2a)(x - 3a) = 0$$

곡선 $y = x(x - a)$ ($x \geq 0$)과 y축 및 직선 $y = 6a^2$ 으로 둘러싸인 부분의 넓이를 S_2 은

$$S_2 = \int_0^{3a} (6a^2 - x^2 + ax) dx$$

$$= \left[6a^2x - \frac{1}{3}x^3 + \frac{1}{2}ax^2 \right]_0^{3a}$$

$$= \frac{27}{2}a^3$$

$$S_2 - S_1 = \frac{27}{2}a^3 - \frac{14}{3}a^3 = \frac{53}{48}$$

$$\text{따라서 } a^3 = \frac{1}{8} \text{이므로 } a = \frac{1}{2}$$

필수 개념

▶ 곡선과 x 축 사이의 넓이

함수 $f(x)$ 가 닫힌구간 $[a, b]$ 에서 연속일 때, 곡선 $y=f(x)$ 와 x 축 및 두 직선 $x=a, x=b$ 로 둘러싸인 부분의 넓이 S 는

$$S = \int_a^b |f(x)| dx$$

16) 정답 ③

[출제범위] 두 곡선으로 둘러싸인 부분의 넓이가 같은 경우

[해설]

조건 (가)에서 $\lim_{x \rightarrow \infty} \frac{f(x) - x^2}{x} = -2$ 이므로

$f(x) = x^2 - 2x + a$ (a 는 상수)로 놓을 수 있다, 방정식 $f(x) = 0$, 즉 $x^2 - 2x + a = 0$ 의 두 근을 α, β 라 하면 이차방정식의 근과 계수와의 관계에 의하여 $\alpha\beta = -7$ 이므로 $a = -7$

$f(x) = x^2 - 2x - 7$ 이므로 $f'(x) = 2x - 2$
두 함수가 $y=f(x), y=f'(x)$ 의 그래프가 만나는 점의 x 좌표는 $f(x) = f'(x)$ 에서

$$x^2 - 2x - 7 = 2x - 2, \quad x^2 - 4x - 5 = 0$$

$$(x-5)(x+1) = 0$$

$$x = -1 \text{ 또는 } x = 5$$

따라서 구하는 넓이는

$$\int_{-1}^5 \{(2x-2) - (x^2-2x-7)\}$$

$$= \int_{-1}^5 (-x^2 + 4x + 5) dx$$

$$\left[-\frac{1}{3}x^3 + 2x^2 + 5x \right]_{-1}^5 = \frac{100}{3} + \frac{8}{3}$$

$$= \frac{108}{3} = 36$$

필수 개념

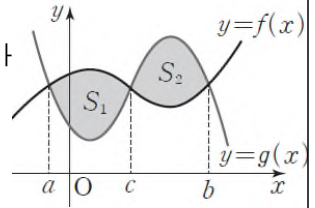
▶ 두 곡선으로 둘러싸인 부분의 넓이가 같은 경우

두 함수 $f(x), g(x)$ 가 닫

힌구간 $[a, b]$ 에서 연속 이고, 그림과 같이 닫힌 구간 $[a, c]$ 와 닫힌구간

$[c, b]$ 에서 두 곡선 $y=f(x), y=g(x)$ 로 둘러싸인 부분의 넓이를 각각 S_1, S_2 라고 할 때,

$$S_1 = S_2 \text{이면 } \int_a^b \{f(x) - g(x)\} dx = 0$$



17) 정답 $\frac{45}{4}$

[출제범위] 역함수와 넓이의 관계

[해설]

$f(x) = x^3 - 3x^2 + 3x - 6$ 에서

$$f'(x) = 3x^2 - 6x + 3 = 3(x-1)^2$$

모든 실수 x 에 대하여 $f'(x) \geq 0$ 이므로 함수 $f(x)$ 는 실수 전체의 집합에서 증가한다. 곡선 $y=f(x)$ 와 직선 $y=x$ 가 만나는 점의 x 좌표는

$$x^3 - 3x^2 + 3x - 6 = x \text{에서}$$

$$x^3 - 3x^2 + 2x - 6 = 0$$

$$(x-3)(x^2+2) = 0 \text{ 따라서 } x = 3$$

곡선 $y=g(x)$ 와 x 축 및 직선 $y=x$ 로 둘러싸인 부분의 넓이를 S_1 , 곡선 $y=f(x)$ 와 x 축 및 직선 $y=x$ 로 둘러싸인 부분의 넓이를 S_2 라고 하면 구

하는 넓이 S 는

$$S = S_1 + S_2$$

두 곡선 $y=f(x)$ 와 $y=g(x)$ 는 직선 $y=x$ 에 대하여 대칭이므로

$$S_1 = \int_0^3 \{x - f(x)\} dx$$

$$= \int_0^3 (x - x^3 + 3x^2 - 3x + 6) dx$$

$$= \left[-\frac{1}{4}x^4 + x^3 - x^2 + 6x \right]_0^3 = \frac{63}{4}$$

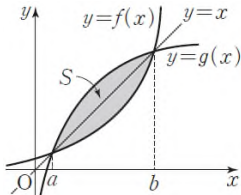
$$S_2 = \int_0^3 \{g(x) - x\} dx$$

$$\begin{aligned}
 &= \int_0^3 g(x)dx - \int_0^3 xdx \\
 &= \int_0^3 g(x) - \left[\frac{1}{2}x^2 \right]_0^3 \\
 &= \int_0^3 g(x) - \frac{9}{2} \\
 S = S_1 + S_2 &= \frac{63}{4} + \int_0^3 g(x)dx - \frac{9}{2} \\
 &= \frac{45}{4} + \int_0^3 g(x)dx \\
 \text{따라서 } S - \int_0^3 g(x)dx &= \frac{45}{4}
 \end{aligned}$$

필수 개념

▶ 역함수와 넓이의 관계

역함수가 존재하는 연속인 함수 $f(x)$ 의 역함수를 $g(x)$ 라 하자. 그림과 같이 두 곡선 $y=f(x)$, $y=g(x)$ 가 두 점 (a, a) , (b, b) 에서 만날 때, 닫힌구간 $[a, b]$ 에서 두 곡선 $y=f(x)$, $y=g(x)$ 로 둘러싸인 부분의 넓이 S 는

$$S = 2 \int_a^b |x - f(x)| dx$$


18) 정답 ④

[출제범위] 속도와 거리

[해설]

시각 $t=0$ 에서의 두 점 P, Q 의 위치가 모두 원점이므로 시각 t ($0 \leq t \leq 2$)에서의 두 점 P, Q 의 위치는 각각

$$x_1(t) = \int_0^t (4t^3 + 4t)dt = [t^4 + 2t^2]_0^t = t^4 + 2t^2$$

$$x_2(t) = \int_0^t (6t^2 + 2t)dt = [2t^3 + t^2]_0^t = 2t^3 + t^2$$

$$|x_1(t) - x_2(t)| = |t^4 + 2t^2 - 2t^3 - t^2| = |t^4 - 2t^3 + t^2|$$

$f(t) = t^4 - 2t^3 + t^2$ 이라 하면

$$f'(t) = 4t^3 - 6t^2 + 2t = 2t(2t^2 - 3t + 1) = 2t(2t-1)(t-1)$$

$0 \leq t \leq 2$ 에서 함수 $f(x)$ 의 최댓값 최솟값을 구

$$\text{하면 } f(t) = t^4 - 2t^3 + t^2$$

$$f(0) = 0$$

$$f\left(\frac{1}{2}\right) = \left(\frac{1}{2}\right)^4 - 2\left(\frac{1}{2}\right)^3 + \left(\frac{1}{2}\right)^2 = \frac{1}{16}$$

$$f(1) = 1 - 2 + 1 = 0$$

$$f(2) = 16 - 16 + 4 = 4$$

$|x_1(t) - x_2(t)|$ 의 최댓값은 4이다.

필수 개념

▶ 속도와 거리

수직선 위를 움직이는 점 P 의 시각 t 에서의 속도를 $v(t)$ 라고 하자.

(1) 시각 t 에서의 점 P 의 위치를 $x = x(t)$ 라고

하면 $x(t) = x(a) + \int_a^t v(t)dt$

(2) 시각 $t=a$ 에서 $t=b$ ($a \leq b$)까지 점 P 의

위치의 변화량은 $\int_a^b v(t)dt$

(3) 시각 $t=a$ 에서 $t=b$ ($a \leq b$)까지 점 P 의

움직인 거리 s 는 $s = \int_a^b |v(t)|dt$

19) 정답 ②

[출제범위] 곡선과 x 축 사이의 넓이

[해설]

$$g(x) = \begin{cases} 2f(x) & (f(x) < 0) \\ 0 & (f(x) \geq 0) \end{cases}$$

조건 (가)에서 $g(0) = 0$ 이므로 $f(0) \geq 0$

$f(0) > 0$ 이라 하면 열린구간 $(0, c)$ 에 속하는 모든 x 에 대하여 $f(x) > 0, g(x) = 0$ 인 양수 c 가 존재한다.

이때 열린구간 $(0, c)$ 에 속하는 모든 x 에 대하여

$\int_0^x g(t)dt = 0$ 이 되어 조건 (나)를 만족시키지 못하다.

따라서 $f(0) = 0$ 이어야 한다.

한편, $a < 0 < b$ 인 어떤 두 실수 a, b 에 대하여

(i) $a < x < 0$ 에서 $f(x) < 0$,

$0 < x < b$ 에서 $f(x) > 0$ 이면 열린구간 $(0, b)$ 에 속하는 모든 x 에 대하여

$g(x) = 0$ 이고 $\int_0^x g(t)dt = 0$ 이 되므로 조건 (나)를

만족시키지 못한다.

(ii) $a < x < 0$ 에서 $f(x) > 0$,

$0 < x < b$ 에서 $f(x) < 0$ 이면 열린구간 $(0, a)$ 에 속하는 모든 x 에 대하여

$g(x) = 0$ 이고 $\int_0^x g(t)dt = 0$ 되므로 조건 (나)를 만족시키지 못한다.

(iii) $a < x < 0$ 에서 $f(x) > 0$,

$0 < x < b$ 에서 $f(x) > 0$ 이면 열린구간 (a, b) 에 속하는 모든 x 에 대하여

$g(x) = 0$ 이고 $\int_0^x g(t)dt = 0$ 되므로 조건 (나)를

만족시키지 못한다.

따라서 $a < x < 0$ 에서 $f(x) < 0$,

$0 < x < b$ 에서 $f(x) < 0$ 이어야 한다.

즉, 삼차함수 $f(x)$ 는 $x=0$ 에서 극댓값 0을 가지므로 $f(x) = x^2(x-p)$ (p 는 양수)로 놓을 수 있다.

$f(1) = -2$ 에서 $1^2(1-p) = -2$ 이므로

$p = 3$

즉, $f(x) = x^2(x-3)$

곡선 $y = f(x)$ 와 x 축이 만나는 점의 좌표는

$x^2(x-3) = 0$ 에서

$x = 0$ 또는 $x = 3$

따라서 구하는 넓이는

$$\int_0^3 |f(x)| dx = \int_0^3 (-x^3 + 3x^2) dx$$

$$= \left[-\frac{1}{4}x^4 + x^3 \right]_0^3 = \frac{27}{4}$$

필수 개념

▶ 곡선과 x 축 사이의 넓이

함수 $f(x)$ 가 닫힌구간 $[a, b]$ 에서 연속일 때, 곡선 $y = f(x)$ 와 x 축 및 두 직선 $x = a$, $x = b$ 로 둘러싸인 부분의 넓이 S 는

$$S = \int_a^b |f(x)| dx$$

20) 정답 ①

[출제범위] 두 곡선으로 둘러싸인 부분의 넓이가 같은 경우

[해설]

삼차함수 $f(x)$ 의 최고차항의 계수를 a ($a > 0$)이

라 하면 조건 (가)에서

$$f'(x) = 3a(x+1)(x-1) = 3ax^2 - 3a$$

로 나타낼 수 있다.

$$f(x) = \int f'(x) dx = ax^3 - 3ax + C \quad (\text{단, } C \text{는 적분}$$

상수) ㉠

두 곡선 $y = f(x)$, $y = -f(x)$ 로 둘러싸인 부분의 넓이를 S 라 하자.

(i) $f(1)f(-1) < 0$ 일 때

조건 (다)에서 $f(0) = C = 0$

$$f(x) = ax^3 - 3ax = ax(x + \sqrt{3})(x - \sqrt{3})$$

$$S = \int_{-\sqrt{3}}^{\sqrt{3}} |f(x) - \{-f(x)\}| dx$$

$$= \int_{-\sqrt{3}}^{\sqrt{3}} 2|f(x)| dx$$

$$= 2 \int_0^{\sqrt{3}} \{-2f(x)\} dx$$

$$= 4 \int_0^{\sqrt{3}} (-ax^3 + 3ax) dx$$

$$= 4 \left[-\frac{a}{4}x^4 + \frac{3a}{2}x^2 \right]_0^{\sqrt{3}} = 9a$$

$9a = 54$ 이므로 $a = 6$

따라서 $f(x) = 6(x^3 - 3x)$ 이므로

$$f(2) = 6(8 - 6) = 12$$

(ii) $f(1) = 0$ 인 경우

㉠에서 $f(1) = a - 3a + C = 0$ 이므로 $C = 2a$

$$f(x) = ax^3 - 3ax + 2a = a(x-1)^2(x+2)$$

$$S = \int_{-2}^1 |f(x) - \{-f(x)\}| dx$$

$$= \int_{-2}^1 2f(x) dx$$

$$= 2 \int_{-2}^1 (ax^3 - 3ax + 2a) dx$$

$$= 2a \left[\frac{1}{4}x^4 - \frac{3}{2}x^2 + 2x \right]_{-2}^1 = \frac{27}{2}a$$

$\frac{27}{2}a = 54$ 이므로 $a = 4$

따라서 $f(x) = 4(x^3 - 3x + 2)$ 이므로

$$f(2) = 4(8 - 6 + 2) = 16$$

(iii) $f(-1) = 0$ 인 경우

㉠에서 $f(-1) = -a + 3a + C = 0$ 이므로 $C = -2a$

$$f(x) = ax^3 - 3ax - 2a = a(x+1)^2(x-2)$$

$$S = \int_{-1}^2 |f(x) - \{-f(x)\}| dx$$

$$= \int_{-1}^2 \{-2f(x)\} dx$$

$$= 2 \int_{-1}^2 (-ax^3 + 3ax + 2a) dx$$

$$= 2a \left[-\frac{1}{4}x^4 + \frac{3}{2}x^2 + 2x \right]_{-1}^2 = \frac{27}{2}a$$

$$\frac{27}{2}a = 54 \text{ 이므로 } a = 4$$

따라서 $f(x) = 4(x^3 - 3x - 2)$ 이므로

$$f(2) = 4(x^3 - 3x - 2) = 0$$

(i), (ii), (iii)에서 $f(2)$ 의 최댓값은 16이다.

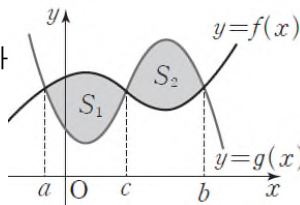
필수 개념

▶ 두 곡선으로 둘러싸인 부분의 넓이가 같은 경우

두 함수 $f(x)$, $g(x)$ 가 닫힌 구간 $[a, b]$ 에서 연속

이고, 그림과 같이 닫힌 구간 $[a, c]$ 와 닫힌 구간 $[c, b]$ 에서 두 곡선 $y=f(x)$, $y=g(x)$ 로 둘러싸인 부분의 넓이를 각각 S_1 , S_2 라고 할 때,

$$S_1 = S_2 \text{ 이면 } \int_a^b \{f(x) - g(x)\} dx = 0$$



21) 정답 32

[출제범위] 곡선과 x 축 사이의 넓이

[해설]

곡선 $y = -x^2 + 4x - 4$ 와 x 축 및 y 축으로 둘러싸인

부분의 넓이 S 는

$$S = \int_0^2 |-x^2 + 4x - 4| dx$$

$$= \int_0^2 (x^2 - 4x + 4) dx$$

$$= \left[\frac{1}{3}x^3 - 2x^2 + 4x \right]_0^2 = \frac{8}{3}$$

따라서 $12S = 32$

필수 개념

▶ 곡선과 x 축 사이의 넓이

함수 $f(x)$ 가 닫힌구간 $[a, b]$ 에서 연속일 때, 곡선 $y=f(x)$ 와 x 축 및 두 직선 $x=a$, $x=b$ 로 둘러싸인 부분의 넓이 S 는

$$S = \int_a^b |f(x)| dx$$

22) 정답 ②

[출제범위] 곡선과 x 축 사이의 넓이

[해설]

$f(x) = x^2 - 4x + 6$ 이라 하면

$$f'(x) = 2x - 4$$

곡선 $y=f(x)$ 위의 점 $A(3, 3)$ 에서의 접선의 기울기가 $f'(3) = 2$ 이므로 접선 l 의 방정식은

$$y - 3 = 2(x - 3), \quad y = 2x - 3$$

따라서 곡선 $y=f(x)$ 와 직선 l 및 y 축으로 둘러싸인 부분의 넓이는

$$\int_0^3 \{x^2 - 4x + 6 - (2x - 3)\} dx$$

$$= \int_0^3 (x^2 - 6x + 9) dx$$

$$= \left[\frac{1}{3}x^3 - 3x^2 + 9x \right]_0^3 = 9$$

필수 개념

▶ 곡선과 x 축 사이의 넓이

함수 $f(x)$ 가 닫힌구간 $[a, b]$ 에서 연속일 때, 곡선 $y=f(x)$ 와 x 축 및 두 직선 $x=a$, $x=b$ 로 둘러싸인 부분의 넓이 S 는

$$S = \int_a^b |f(x)| dx$$

23) 정답 ①

[출제범위] 두 곡선 사이의 넓이

[해설]

두 함수 $y=f(x)$, $y=g(x)$ 의 그래프로 둘러싸인 부분에서 $0 \leq x \leq 2$ 인 부분과 $2 \leq x \leq 4$ 인 부분의

넓이가 같으므로 구하는 넓이를 S 라 하면

$$\begin{aligned}
 S &= \int_0^4 \{g(x) - f(x)\} dx \\
 &= 2 \int_0^2 (-2x^2 + 6x) dx \\
 &= 2 \left[-\frac{2}{3}x^3 + 3x^2 \right]_0^2 = \frac{40}{3}
 \end{aligned}$$

필수 개념

▶ 두 곡선 사이의 넓이

두 함수 $f(x)$, $g(x)$ 가 닫힌구간 $[a, b]$ 에서 연속일 때, 두 곡선 $y=f(x)$, $y=g(x)$ 및 두 직선 $x=a$, $x=b$ 로 둘러싸인 부분의 넓이 S 는

$$S = \int_a^b |f(x) - g(x)| dx$$

24) 정답 16

[출제범위] 속도와 거리

[해설]

시각 t 에서의 점 P의 위치를 $x(t)$ 라 하면
 시각 $t=3$ 에서의 점 P의 위치는

$$\begin{aligned}
 x(3) &= x(0) + \int_0^3 v(t) dt = \int_0^3 (3t^2 + 6t - a) dt \\
 &= [t^3 + 3t^2 - at]_0^3 = 54 - 3a = 6
 \end{aligned}$$

$a = 16$

필수 개념

▶ 속도와 거리

수직선 위를 움직이는 점 P의 시각 t 에서의 속도를 $v(t)$ 라고 하자.

(1) 시각 t 에서의 점 P의 위치를 $x = x(t)$ 라고

하면 $x(t) = x(a) + \int_a^t v(t) dt$

(2) 시각 $t=a$ 에서 $t=b$ ($a \leq b$)까지 점 P의

위치의 변화량은 $\int_a^b v(t) dt$

(3) 시각 $t=a$ 에서 $t=b$ ($a \leq b$)까지 점 P의

움직인 거리 s 는 $s = \int_a^b |v(t)| dt$

25) 정답 80

[출제범위] 속도와 거리

[해설]

점 P의 시각 t 에서의 가속도 $a(t)$ 는

$$a(t) = v'(t) = 12t^2 - 48$$

$a(k) = 12(k^2 - 4) = 0$ 에서 $k > 0$ 이므로 $k = 2$ 이다.

$0 \leq t \leq 2$ 일 때 $v(t) \leq 0$ 이므로

시각 $t=0$ 에서 $t=2$ 까지 점 P가 움직인 거리는

$$\begin{aligned}
 \int_0^2 |v(t)| dt &= \int_0^2 (-4t^3 + 48t) dt \\
 &= \left[-t^4 + 24t^2 \right]_0^2 = -16 + 96 = 80
 \end{aligned}$$

필수 개념

▶ 속도와 거리

수직선 위를 움직이는 점 P의 시각 t 에서의 속도를 $v(t)$ 라고 하자.

(1) 시각 t 에서의 점 P의 위치를 $x = x(t)$ 라고

하면 $x(t) = x(a) + \int_a^t v(t) dt$

(2) 시각 $t=a$ 에서 $t=b$ ($a \leq b$)까지 점 P의

위치의 변화량은 $\int_a^b v(t) dt$

(3) 시각 $t=a$ 에서 $t=b$ ($a \leq b$)까지 점 P의

움직인 거리 s 는 $s = \int_a^b |v(t)| dt$

26) 정답 ②

[출제범위] 곡선과 x 축 사이의 넓이

[해설]

함수 $f(x) = (x-a)(x-b)$ 에 대하여

곡선 $y = f(x)$ 와 x 축으로 둘러싸인 부분의 넓이는

$$\begin{aligned}
 \int_a^b |f(x)| dx &= - \int_a^b f(x) dx \\
 &= - \left(\int_0^b f(x) dx - \int_0^a f(x) dx \right) \\
 &= - \left(-\frac{8}{3} - \frac{11}{6} \right) \\
 &= \frac{9}{2}
 \end{aligned}$$

필수 개념

▶ 곡선과 x 축 사이의 넓이

함수 $f(x)$ 가 닫힌구간 $[a, b]$ 에서 연속일 때, 곡선 $y=f(x)$ 와 x 축 및 두 직선 $x=a, x=b$ 로 둘러싸인 부분의 넓이 S 는

$$S = \int_a^b |f(x)| dx$$

27) 정답 ③

[출제범위] 두 곡선 사이의 넓이

[해설]

구하고자 하는 도형의 넓이를 S 라 하면

$$S = \int_0^2 |f(x) - g(x)| dx$$

$$= \int_0^2 \{g(x) - f(x)\} dx$$

$g(x) - f(x)$ 는 최고차항의 계수가 3이고

삼차방정식 $g(x) - f(x) = 0$ 은 한 실근 0과 중근

2를 가지므로 $g(x) - f(x) = 3x(x-2)^2$

$$\text{따라서 } S = \int_0^2 3x(x-2)^2 dx$$

$$= \int_0^2 (3x^3 - 12x^2 + 12x) dx$$

$$= \left[\frac{3}{4}x^4 - 4x^3 + 6x^2 \right]_0^2$$

$$= 12 - 32 + 24 = 4$$

필수 개념

▶ 두 곡선 사이의 넓이

두 함수 $f(x), g(x)$ 가 닫힌구간 $[a, b]$ 에서 연속일 때, 두 곡선 $y=f(x), y=g(x)$ 및 두 직선 $x=a, x=b$ 로 둘러싸인 부분의 넓이 S 는

$$S = \int_a^b |f(x) - g(x)| dx$$

28) 정답 2

[출제범위] 두 곡선 사이의 넓이

[해설]

$f(1-x) = -f(1+x)$ 에 $x=0, x=1$ 을 각각 대입하면

$$f(1) = -f(1) \text{에서}$$

$$f(1) = 0, f(0) = -f(2) \text{에서 } f(2) = 0$$

삼차함수 $f(x)$ 는 $f(0) = f(1) = f(2) = 0$ 이고 최고차항의 계수가 1이므로 $f(x) = x(x-1)(x-2)$

방정식 $f(x) = -6x^2$ 에서

$$x^3 + 3x^2 + 2x = 0 \text{이므로}$$

$$x(x+1)(x+2) = 0, x=0 \text{ 또는 } x=-1 \text{ 또는}$$

$$x=-2$$

$$-2 \leq x \leq -1 \text{에서 } x^3 + 3x^2 + 2x \geq 0 \text{이고}$$

$$-1 \leq x \leq 0 \text{에서 } x^3 + 3x^2 + 2x \leq 0 \text{이므로}$$

$$S = \int_{-2}^0 |x^3 + 3x^2 + 2x| dx$$

$$= \int_{-2}^{-1} (x^3 + 3x^2 + 2x) dx$$

$$+ \int_{-1}^0 \{-(x^3 + 3x^2 + 2x)\} dx$$

$$= \left[\frac{1}{4}x^4 + x^3 + x^2 \right]_{-2}^{-1} + \left[-\frac{1}{4}x^4 - x^3 - x^2 \right]_{-1}^0 = \frac{1}{2}$$

따라서 $4S = 2$

필수 개념

▶ 두 곡선 사이의 넓이

두 함수 $f(x), g(x)$ 가 닫힌구간 $[a, b]$ 에서 연속일 때, 두 곡선 $y=f(x), y=g(x)$ 및 두 직선 $x=a, x=b$ 로 둘러싸인 부분의 넓이 S 는

$$S = \int_a^b |f(x) - g(x)| dx$$

29) 정답 ②

[출제범위] 두 곡선 사이의 넓이

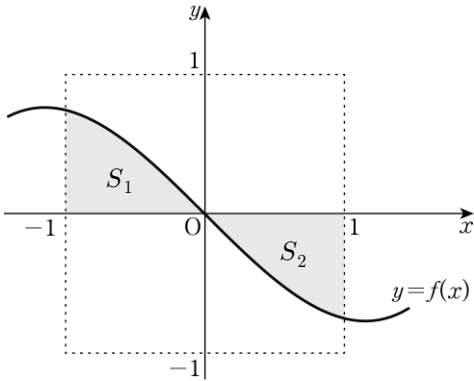
[해설]

모든 실수 x 에 대하여 $f(-x) = -f(x)$ 이므로

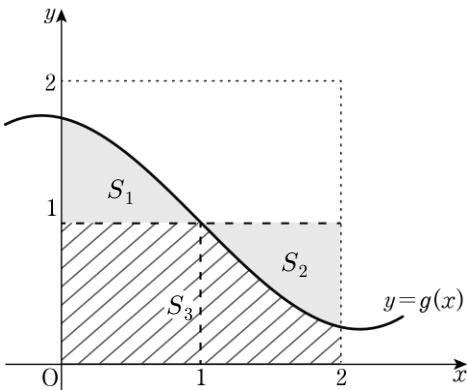
함수 $f(x)$ 의 그래프는 원점에 대하여 대칭이다.

그림과 같이 색칠된 부분의 넓이를 각각 S_1, S_2

라 하면 $S_1 = S_2$



함수 $y = g(x)$ 의 그래프에서 빗금 친 부분의 넓이를 S_3 이라 하면 $\int_0^2 g(x)dx = S_1 + S_3 = S_2 + S_3 = 2 \times 1 = 2$



필수 개념

▶ 두 곡선 사이의 넓이

두 함수 $f(x)$, $g(x)$ 가 닫힌구간 $[a, b]$ 에서 연속일 때, 두 곡선 $y = f(x)$, $y = g(x)$ 및 두 직선 $x = a$, $x = b$ 로 둘러싸인 부분의 넓이 S 는

$$S = \int_a^b |f(x) - g(x)| dx$$

30) 정답 ③

[출제범위] 속도와 거리

[해설]

$$\int_0^a |v(t)| dt = s_1, \quad \int_a^b |v(t)| dt = s_2,$$

$$\int_b^c |v(t)| dt = s_3 \text{이라 하자.}$$

점 P는 출발한 후 시각 $t = a$ 에서 처음으로 운동

방향을 바꾸므로 $-8 = \int_0^a v(t)dt = -s_1$ 에서

$$s_1 = 8$$

점 P의 시각 $t = c$ 에서의 위치가 -6 이므로

$$-6 = \int_0^c v(t)dt = (-8) + s_2 - s_3$$

에서 $s_2 - s_3 = 2 \dots\dots \textcircled{\text{A}}$

$$\int_0^b v(t)dt = \int_b^c v(t)dt \text{이므로}$$

$$-8 + s_2 = -s_3, \text{ 즉 } s_2 + s_3 = 8 \dots\dots \textcircled{\text{B}}$$

$\textcircled{\text{A}}$, $\textcircled{\text{B}}$ 을 연립하여 풀면 $s_2 = 5$, $s_3 = 3$

따라서 구하는 거리는 5이다.

필수 개념

▶ 속도와 거리

수직선 위를 움직이는 점 P의 시각 t 에서의 속도를 $v(t)$ 라고 하자.

(1) 시각 t 에서의 점 P의 위치를 $x = x(t)$ 라고

하면 $x(t) = x(a) + \int_a^t v(t)dt$

(2) 시각 $t = a$ 에서 $t = b$ ($a \leq b$)까지 점 P의

위치의 변화량은 $\int_a^b v(t)dt$

(3) 시각 $t = a$ 에서 $t = b$ ($a \leq b$)까지 점 P의

움직인 거리 s 는 $s = \int_a^b |v(t)| dt$

서지정보

저자 김유정

발행처 나무아카데미

isbn 979-11-377-4298-7

제본형태 hwp pdf 파일

발행일 2023.02.28

가격 1,500원

